

ШИФР 11-07-02

участника муниципального этапа  
сероссийской олимпиады школьников по  
русскому языку в 2019-2020 учебном году  
**Внимание!** Шифровать следует каждую  
страницу Вашей письменной работы.

Ф. И. О. учащегося

Михайлов Елена Анатольевна

Дата

рождения 29.04.2006

Образовательное учреждение (полное  
название) МАОУ №5

Город, село

Мелихи

Район

Класс

7а

Ф. И. О. учителя (полностью)

Есеева Оксана Александровна

ВСЕРОССИЙСКАЯ ОЛИМПИАДА ШКОЛЬНИКОВ 2019/20 гг.  
МУНИЦИПАЛЬНЫЙ ЭТАП  
ИСТОРИЯ  
7 КЛАСС

шт  
408.  
шт

Шифр И-07-02

В задании 1-3 дайте один правильный ответ. За каждый правильный ответ – 1 балл. За ответ на каждый дополнительный вопрос — 1 балл.  
Максимум 6 баллов

Задание № 1.<sup>1</sup>

Этот город был построен в 1593 г. на месте хантыйского селения Сумгут, в последствии стал местом ссылки известных людей.

Назовите этот город.

- А) Сургут  
 Б) Когалым  
 В) Березов  
 Г) Ханты-Мансийск

Напишите фамилии известных ссыльных (при правильном определении хотя бы одной личности — 1 балл)

Ответ: А.П. Пушкин, М.И. Ленин, И.И. Чернов, И.С. Пугачев,  
Н.В. Гоголь, Салтыков-Щедрин, А.И. Барто.

Задание № 2

Тюменскую землю называют «воротами Сибири». Природные богатства издревле привлекали сюда людей, которые по быстрым рекам, по узким горным тропам, сквозь тайгу и болота пробирались в Сибирь.

Жители какого города Древней Руси первыми проникли в Сибирь?

- А) киевляне  
 Б) новгородцы  
 В) черниговцы  
 Г) ростовчане

Когда это произошло?

Ответ: ростовчане  
новгородцы проникли в Сибирь примерно в XVI веке

<sup>1</sup> Задание с региональным компонентом

ВСЕРОССИЙСКАЯ ОЛИМПИАДА ШКОЛЬНИКОВ 2019/20 гг.  
МУНИЦИПАЛЬНЫЙ ЭТАП  
ИСТОРИЯ  
7 КЛАСС

**Задание № 3.**

Укажите, какой из перечисленных ниже рядов дат связан с этапами завоевания Руси монгольскими войсками.

- А) 945 г., 1068 г., 1113 г.  
18. Б) 1223 г., 1237 г., 1240 г.  
В) 1240 г., 1242 г., 1410 г.  
Г) 1471 г., 1478 г., 1521 г.

Назовите события связанные с этими датами (балл за определение всех трех событий).

Ответ: 1223 год - битва на реке Калка (поражение русских войск)  
16. 1237 год - походы Шибубея на ~~юго-западную Русь~~ северо-восточную Русь  
17. 1240 год - походы Шибубея на юго-западную Русь

В заданиях 4-6 выберите несколько правильных ответов из предложенных. Ответ внесите в таблицу. По 2 балла за полностью верный ответ. 1 балл за ответ с одной ошибкой (не указан один из верных ответов, или наряду со всеми указанными верными ответами приводится один неверный). Максимум 6 баллов

**Задание № 4.**

Какие из представленных городов были отвоеваны у Литвы в начале XVI в.:

- 1) Вязьма  
2) Чернигов  
3) Серпухов  
4) Витебск  
5) Можайск  
6) Смоленск  
7) Полоцк  
8) Киев

**Задание № 5.**

Выберите верные характеристики опричнины:

- 1) крупная государственная реформа  
2) аппарат государственного террора  
3) форма частного землевладения  
4) пограничное войско Московского царства в XVI в.  
5) территория, выделенная из состава государства  
6) особая группа царских подданных, отделенная от остального государства  
7) система новых налогов на содержание армии  
8) система органов управления, действующая на особой территории отдельно от остального государства

ВСЕРОССИЙСКАЯ ОЛИМПИАДА ШКОЛЬНИКОВ 2019/20 гг.  
 МУНИЦИПАЛЬНЫЙ ЭТАП  
 ИСТОРИЯ  
 7 КЛАСС

Задание № 6

Отметьте результаты, достигнутые во внешней политике в XVII в. до 1689 г.:

- 1) присоединение Правобережной Украины
- 2) возвращение Смоленска
- 3) возвращение Новгорода и Пскова
- 4) отказ польского короля от претензий на русский престол
- 5) присоединение Левобережной Украины
- 6) получение выхода к Балтийскому морю
- 7) получение выхода к Азовскому морю
- 8) присоединение Киева

4	5	6
2, 8, 5, 7	3, 5, 1, 2	8, 5, 4, 8 + 10

Задание № 7. Что с исторической точки зрения объединяет перечисленные в ряду элементы? (За каждый верный ответ - 1 балл, дополнительно по 1 баллу за определение дат, имен и других характеристик в каждом ряду. Максимальный балл - 12)

1. 1072 г., 1097 г., 1100 г., 1103 г.

Ответ:

10. Эти даты связаны со свержением рус князей для объединения против великих князей.  
 10. 1097 год - Любечский съезд, соединившим это княжество  
 10. Владимир Мономах Ю (1113-1125) - Любечский съезд,  
 10. повелением началу феодальной раздробленности на Руси

2. 1463 г., 1474 г., 1478 г., 1485 г., 1510 г.

Ответ:

10. Эти даты относятся к присоединению земель к Московскому княжеству.  
 10. 1540 - присоединение Пскова; 1485 - присоединение Твери; 1478 - присоединение Новгорода.

3. Алексей Басманов, Малюта Скуратов, Афанасий Вяземский.

Ответ:

10. Иван IV Грозный (1533-1584) - царь или "Государь всея Руси", создателем Ивана Грозного

Задание № 8.

Укажите, что является лишним в каждом ряду. Поясните свой ответ (за каждый правильный ответ 1 балл и за каждое пояснение - 1 балл, максимальный балл - 6)

8.1. Владимир, Олег, Ярополк, Святослав.

Ответ:

10. Ярополк является лишним потому что Владимир, Олег и Святослав - великие князья Киев Руси

ВСЕРОССИЙСКАЯ ОЛИМПИАДА ШКОЛЬНИКОВ 2019/20 гг.  
МУНИЦИПАЛЬНЫЙ ЭТАП  
ИСТОРИЯ  
7 КЛАСС

8.2. 1552 г., 1556 г., 1581 г., 1589 г.

Ответ:

1556 —

8.3. 1549 г., 1552 г., 1566 г., 1649 г., 1653 г.

Ответ:

1549 - Земской собор, 1552 - Стоглавый собор  
1649

**Задание № 9.** Определите правителей, годы их правления и расположите в хронологической последовательности. Ответ запишите в таблицу. За правильно определенную последовательность – 2 балла. Дополнительно 2 балла - за определение исторической личности, 2 балла — за правильное определение периода правления. Максимальный балл за всё задание – 18 баллов.



А



Б

ВСЕРОССИЙСКАЯ ОЛИМПИАДА ШКОЛЬНИКОВ 2019/20 гг.  
 МУНИЦИПАЛЬНЫЙ ЭТАП  
 ИСТОРИЯ  
 7 КЛАСС



В

Г

Ответ:

	Последовательность	Имя исторической личности	Даты правления
1	Б	Ярослав Мудрый —	1019-1054?
2	А	Владимир Великий —	1113-1125?
3	Г	Иван Грозный —	1547-1584?
4	В	Василий I —	1389-1405?

**Задание № 10.** Расположите в хронологическом порядке следующие события. Ответ занесите в таблицу. За каждую верно указанную последовательность – 1 балл. При наличии любого кол-ва ошибок в определении последовательности – 0 баллов. За правильно определенные даты (годы) по 1 баллу. Ответы внесите в таблицу. Максимально за задание – 15 баллов.

**10.1.** Расположите в хронологической последовательности следующие события:

- А) введение опричнины;
- Б) учреждение патриаршества в России;
- В) появление теории «Москва — третий Рим»;
- Г) созыв первого Земского собора.

Определите годы событий.

Ответ:

	1	2	3	4
Ответ	В	Г	А	Б
Даты	1478 (1505-1533) 16.			

ВСЕРОССИЙСКАЯ ОЛИМПИАДА ШКОЛЬНИКОВ 2019/20 гг.  
МУНИЦИПАЛЬНЫЙ ЭТАП  
ИСТОРИЯ  
7 КЛАСС

**10.2. Расположите следующие литературные произведения в хронологическом порядке их создания.**

- А) «Сказание о Мамаевом побоище»
- Б) «Домострой»
- В) «Повесть временных лет»
- Г) «Житие протопопа Аввакума»

**Определите время создания представленных произведений литературы (век).**

**Ответ:**

	1	2	3	4
Ответ	В	А	Б	Г
Время создания	1113 год 1б	XIV в. 1б	XV-XVIII вв. 1б	XVI-XVII вв. 1б

**10.3. Расположите в хронологическом порядке события XVII в., вошедшего в историю как «Бунташный век».**

- А) Медный Бунт
- Б) Соляной Бунт
- В) Восстание Хлопка;
- Г) Хлебный бунт

**Определите годы событий.**

**Ответ:**

	1	2	3	4
Ответ	А	Г	Б	В
Годы	XVI-XVII в. 1б	XVI-XVII в. 1б	16-17 в. 1б	16-17 в. 1б

**Задание № 11. Перед вами отрывки из исторических источников. Внимательно прочитайте и ответьте на вопросы. За правильный ответ на каждый вопрос 2 балла. Максимально за задание 10 баллов.**

**11.1** Когда ... был в Новгороде, пришла к нему весть, что печенеги осадили Киев. ... собрал воинов многих, варягов и словен, пришел к Киеву и вошел в город свой. А было печенегов без числа. ... выступил из города, и исполнил дружину, и поставил варягов посредине, а на правой стороне – киевлян, а на левом крыле – новгородцев; и стал пред градом. Печенеги пошли на приступы схватились на месте, где стоит ныне святая София, митрополия русская: было здесь тогда поле вне града. И была сеча жестокая, и побежали печенеги врассыпную, и не знали, куда бежать, одни, убегая, тонули в Сетомли, иные же в других реках, а остаток их бегают где-то и до сего дня.

**1. Назовите имя какого исторического деятеля пропущено в тексте?**

**2. В каком году произошло приведенное событие?**

**3. Как называется документ, из которого взят отрывок?**

**Ответ:**

Ярослав Мудрый (1019-1054) 3б

1113 год

«Повесть временных лет» 2б

ВСЕРОССИЙСКАЯ ОЛИМПИАДА ШКОЛЬНИКОВ 2019/20 гг.  
МУНИЦИПАЛЬНЫЙ ЭТАП  
ИСТОРИЯ  
7 КЛАСС

11.2. На престоле московских государей он был небывалым явлением... Он совершенно изменил чопорный порядок жизни старых московских государей и их тяжёлое, угнетательное отношение к людям... со всеми обращался просто, обходительно, не по-царски... Своим образом действий он приобрёл широкую и сильную привязанность в народе...

О ком идет речь в тексте?

Ответ: Владимир Иван Косича (1325-1340) —

11.3. Осужденный и сосланный в Ферапонтов монастырь, он получал от царя гостинцы, и, когда раз царь прислал ему много хорошей рыбы, Он обиделся и ответил упреком, зачем не прислали овощей, винограду в патоке, яблочек. В добром настроении он был находчив, остроумен, но, обиженный и раздраженный, терял всякий такт и причуды озлобленного воображения принимал за действительность... Он принадлежал к числу людей, которые спокойно переносят страшные боли, но охают и приходят в отчаяние от булавочного укола. У него была слабость, которой страдают нередко сильные, но маловыдержанные люди. Он скучал покоем, не умел терпеливо выжидать; ему постоянно нужна была тревога, увлечение смелую ли мыслью или широким предприятием, даже просто хотя бы ссорой с противным человеком. Это – словно парус, который только в буре бывает самим собой, а в затишье треплется на мачте бесполезной тряпкой.

О ком идет речь в тексте?

Ответ: Борис Годунов —

**Задание № 12.**

Соотнесите элементы правого и левого столбцов таблицы. В перечне справа есть лишний элемент. За каждый правильный ответ 1 балл, максимальный балл – 4.

1. Владимир Мономах	<del>А) «Слово о Законе и Благодати»</del>
2. Иаков	<del>Б) «Поучение детям»</del>
3. Илларион	<del>В) «Задонщина»</del>
4. Нестор	Г) «Памяти и похвале Владимира»
	Д) «Чтение о житии Бориса и Глеба»

1	2	3	4
Б, Д +	В -	А -	Г, -

15.

**Задание № 13.** Заполните пробелы в тексте. Ответ оформите в виде перечня элементов под соответствующими номерами. 1 балл за каждый правильно заполненный пропуск, максимальный балл – 6.

«Владимир оставил за собой киевский престол, а своих старших сыновей посадил в крупнейшие русские города. Подчиненность их великому князю-отцу выражалась в регулярной выплате \_\_\_1\_\_\_. При определении порядка наследования власти постепенно закрепилось преимущественное право \_\_\_2\_\_\_. Если умирал самый старший из братьев, сидевший обычно на \_\_\_3\_\_\_ «столе», его место занимал следующий по возрасту брат, а все остальные братья передвигались на одну ступеньку вверх, переходя на все более престижные княжества. Такая система организации передачи власти обычно называется \_\_\_4\_\_\_ системой восхождения князей на престолы. Но она действовала только при жизни главы княжеского рода, каковым считался киевский князь. После его смерти нередко



ВСЕРОССИЙСКАЯ ОЛИМПИАДА ШКОЛЬНИКОВ 2019/20 гг.  
МУНИЦИПАЛЬНЫЙ ЭТАП  
ИСТОРИЯ  
7 КЛАСС

начинались междоусобицы. Политический компромисс был достигнут в \_\_\_\_\_5\_\_\_\_\_ году в городе Любече, где внуки князя Ярослава Мудрого установили новый принцип взаимоотношений. «Каждо да держать отчину свою».

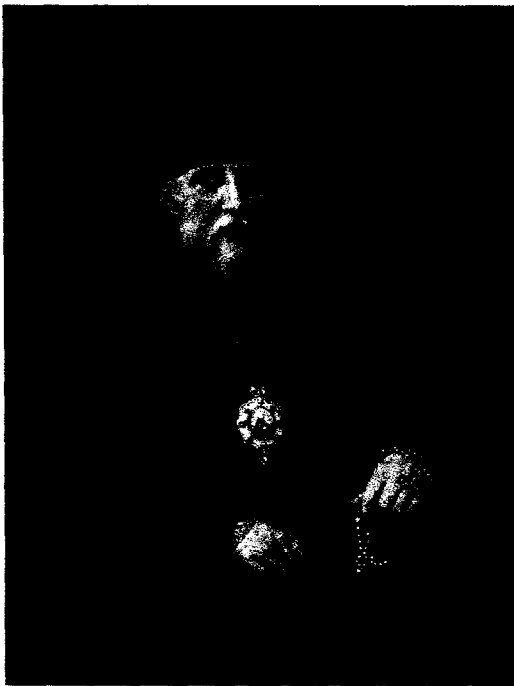
Утверждался новый принцип наследования престола в княжествах – \_\_\_\_\_6\_\_\_\_\_».

Ответ:


1	дани + 1б	4	летвиничная + 1
2	<del>летвиничная</del> старшину сына -	5	1097 + 1б
3	престолу -	6	"от отца к сыну" -

**Задание № 14.** Перед вами изображения деятелей XVI в. Соотнесите между собой портреты и имена деятелей. Что объединяет этих людей? Заполните таблицу. 2 балла за правильный ответ на вопрос и по 2 балла за каждое верно названное имя. Максимальный балл – 10.

Портреты:




А)



Б)

ВСЕРОССИЙСКАЯ ОЛИМПИАДА ШКОЛЬНИКОВ 2019/20 гг.  
 МУНИЦИПАЛЬНЫЙ ЭТАП  
 ИСТОРИЯ  
 7 КЛАСС



В)



Г)

Ответ на вопрос:

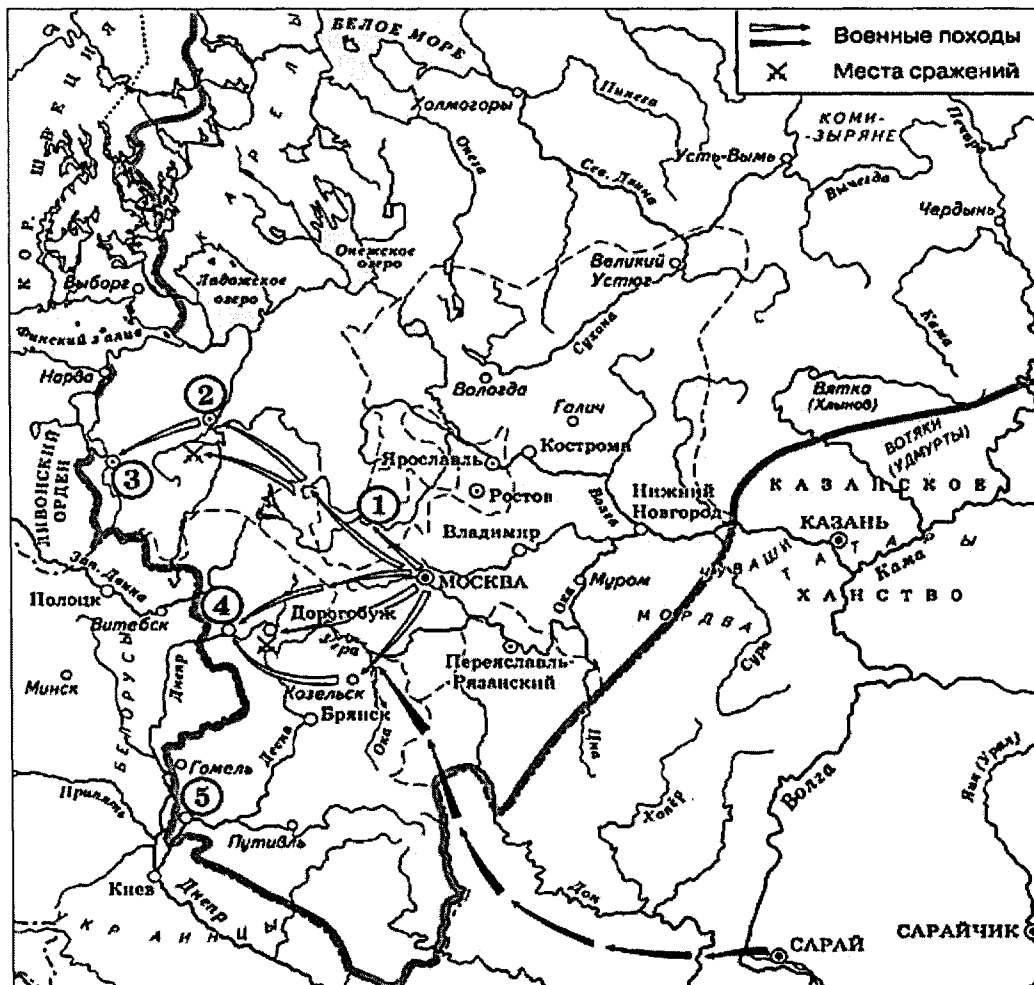
Все они жили во времена правления <sup>15</sup> Ивана IV Грозного  
 (1533 - 1584)

(2 балла)

Портрет	Имя
А	митрополит —
Б	—
В	Андрей Курбский —
Г	протопоп Аввакум —

ВСЕРОССИЙСКАЯ ОЛИМПИАДА ШКОЛЬНИКОВ 2019/20 гг.  
МУНИЦИПАЛЬНЫЙ ЭТАП  
ИСТОРИЯ  
7 КЛАСС

Задание № 15. Выполните задания по карте России. За правильно данный ответ от 1 до 2 баллов, максимальный балл – 7.



15.1. Назовите князя, в годы правления которого в состав единого Русского государства вошли города, обозначенные на схеме цифрами «1» и «2» (1 балл).

Ответ: Иван III (1462-1505); Тверь - 1485, Новгород - 1478 - 15 + 20.

15.2. Укажите век, когда в состав единого Русского государства вошли города, обозначенные на схеме цифрами «3», «4» и «5» (2 балла).

Ответ: XVI век (16) 20

15.3. Назовите князя, при котором Русское государство достигло границ, обозначенных на схеме жирной чертой (1 балл).

Ответ: Иван IV Грозный (1533-1584) 05

15.4. В городах, обозначенных цифрами «2» и «3», до вхождения в состав единого Русского государства существовала республиканская форма правления. (Ответ да/нет) (1 балл). Назовите эти города (2 балла)

Ответ: да; Новгород и Псков 30