

ОБЖ-10-06

ВСЕРОССИЙСКАЯ ОЛИМПИАДА ШКОЛЬНИКОВ  
ПО ОСНОВАМ БЕЗОПАСНОСТИ  
ЖИЗНЕДЕЯТЕЛЬНОСТИ  
(МУНИЦИПАЛЬНЫЙ ЭТАП)  
ТЕОРЕТИЧЕСКИЙ ТУР  
возрастная группа (10-11 классы)

5504

***Уважаемый участник олимпиады!***

Вам предстоит выполнить теоретические (модуль 1) и тестовые задания (модуль 2). Время выполнения заданий теоретического тура **90** (минут).

*Выполнение теоретических заданий модуля 1 целесообразно организовать следующим образом:*

– не спеша, внимательно прочитайте задание и определите, наиболее верный и полный ответ;

– отвечая на теоретический вопрос, обдумайте и сформулируйте конкретный ответ только на поставленный вопрос;

– если Вы отвечаете на задание, связанное с заполнением таблицы или схемы, не старайтесь детализировать информацию, вписывайте только те сведения или данные, которые указаны в вопросе;

– особое внимание обратите на задания, в выполнении которых требуется выразить Ваше мнение с учетом анализа ситуации или поставленной проблемы. Внимательно и вдумчиво определите смысл вопроса и логику ответа (последовательность и точность изложения). Отвечая на вопрос, предлагайте свой вариант решения проблемы, при этом ответ должен быть кратким, но содержать необходимую информацию;

– после выполнения всех предложенных заданий еще раз удостоверьтесь в правильности выбранных Вами ответов и решений.

*Выполнение заданий модуля 2 целесообразно организовать следующим образом:*

– не спеша, внимательно прочитайте тестовое задание;

– определите, какой из предложенных вариантов ответа (в случае их наличия) наиболее верный и полный;

Муниципальный этап всероссийской олимпиады школьников по «Основам безопасности жизнедеятельности»

Ханты-Мансийский автономный округ – Югра

2021-2022 учебный год

10-11 классы

– напишите ответ (на задания со свободным ответом), либо букву, цифру, соответствующую выбранному Вами ответу (на задания с выбором ответа из предложенных);

– продолжайте, таким образом, работу до завершения выполнения заданий;

– после выполнения всех предложенных заданий еще раз удостоверьтесь в правильности ваших ответов;

– если потребуется корректировка выбранного Вами варианта ответа, то неправильный вариант ответа зачеркните крестиком и рядом напишите новый.

*Предупреждаем Вас, что:*

– при оценке заданий модуля 2, где необходимо определить один правильный ответ, 0 баллов выставляется за неверный ответ и в случае, если участником отмечены несколько ответов (в том числе правильный), или все ответы;

– при оценке заданий модуля 2, где необходимо определить все правильные ответы, 0 баллов выставляется, если участником отмечены неверные ответы, большее количество ответов, чем предусмотрено в задании (в том числе правильные ответы) или все ответы.

Задание теоретического тура считается выполненным, если Вы вовремя сдаете его членам жюри.

**Максимальная оценка – 150 баллов.**

**МУНИЦИПАЛЬНЫЙ ЭТАП ВСЕРОССИЙСКОЙ ОЛИМПИАДЫ  
ШКОЛЬНИКОВ 2021/2022 УЧЕБНОГО ГОДА ПО ОСНОВАМ  
БЕЗОПАСНОСТИ ЖИЗНЕДЕЯТЕЛЬНОСТИ 7-8 КЛАСС**

Шифр участника

С	Т	ОБЖ			
---	---	-----	--	--	--

**МОДУЛЬ 1.**

**Задание 1.**

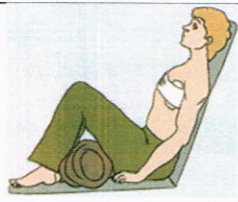
А) Перечислите мероприятия, выполнение которых возможно при оказании первой помощи.

Решение (вариант ответа):

1. Убедиться в собственной безопасности и безопасности пострадавшего +
2. Проверить в сознании ли человек (потрепать за плечи, задать вопрос) +
3. Проверить наличие дыхания (прислушаться, проверить зеркалом; похлопать по груди)
4. Вызвать скорую помощь + ; грудной клетки)
5. Если это клиническая смерть, то приступить к реанимации пострадавшего
6. Если это перелом, то помощь пострадавшему принять позу для транспортировки +
7. Если это перелом, то наложить шину и зафиксировать суставы; -
8. При капиллярном кровотечении, продезинфицировать поврежденную поверхность -
9. При артериальном кровотечении, наложить тугую повязку - ;
10. При потере сознания, положить пострадавшего набок на бок; -
11. Сделать искусственное дыхание пострадавшему, если у него отсутствует дыхание б

Б) Напишите название данного расположения пострадавшего и перечислите состояния, при которых оно используется.

Решение (вариант ответа):





Положение пострадавшего	Название положения и когда оно применяется
	<p>1. Положение сидя, валик под ногами, туловище приподнято</p> <p>а) Применяется при травме грудной клетки.</p> <p style="text-align: right;">2</p>

Муниципальный этап всероссийской олимпиады школьников по «Основам безопасности жизнедеятельности»

Ханты-Мансийский автономный округ – Югра

2021-2022 учебный год

10-11 классы

	<p>2. <u>Положение лени, велик под колам.</u> <sup>нога приподнята</sup> -</p> <p>а) <u>при травме таза</u> 2</p>
	<p>3. <u>Положение лени, ноги на возвышенности</u> +</p> <p>а) <u>при обильной кровопотери</u> +</p> <p>б) <u>при потере сознания</u></p>
	<p>4. <u>Боковое</u> -</p> <p>а) <u>при обмороке</u> +</p> <p>б) <u>при эпилепсии</u></p> <p>в) <u>при потере сознания</u></p>
	<p>5. <u>Положение лени на ровной поверхности</u> +</p> <p>а) <u>при травме позвоночника</u> 2</p>

116

Оценка задания. Максимальная оценка за правильно выполненное задание 29 баллов.


- за правильный ответ части А начисляется - 11 баллов (по 1 баллу за правильный ответ по каждой из одиннадцати позиций);

- за правильный ответ части Б начисляется – 18 баллов (по 2 балла за каждое верно указанное название расположения, а также по 1 баллу за правильный ответ по каждой из восьми позиций в его содержании);



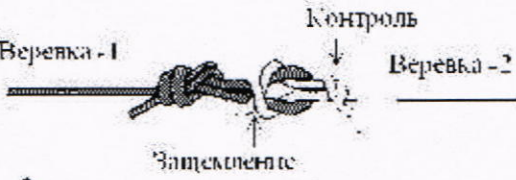

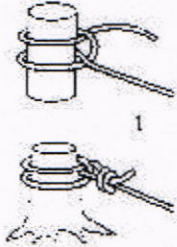


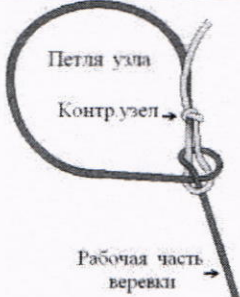
**Задание 2. Укажите название узлов, представленных в таблице, и укажите их назначение.**

Решение (вариант ответа):

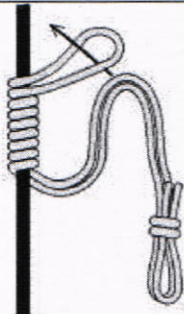
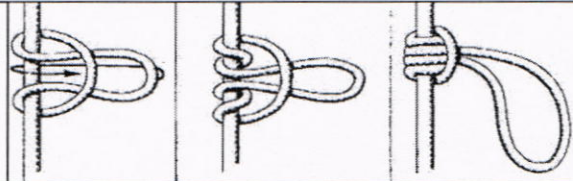

Узлы и их назначение

Изображение узла	Название узла
Назначение:	
	<p>встречный, для связки двух веревок +</p>

Муниципальный этап всероссийской олимпиады школьников по «Основам безопасности жизнедеятельности»  
 Ханты-Мансийский автономный округ – Югра  
 2021-2022 учебный год  
 10-11 классы

	
<p><u>Назначение:</u></p>	
	
	
	
<p><u>Назначение:</u></p>	
	
	
	<p>штыковая <span style="color: red;">+</span></p>
	

Муниципальный этап всероссийской олимпиады школьников по «Основам безопасности жизнедеятельности»  
Ханты-Мансийский автономный округ – Югра  
2021-2022 учебный год  
10-11 классы

<u>Назначение:</u>	
	
	
	

Оценка задания. Максимальная оценка за правильно выполненное задание 20 баллов.

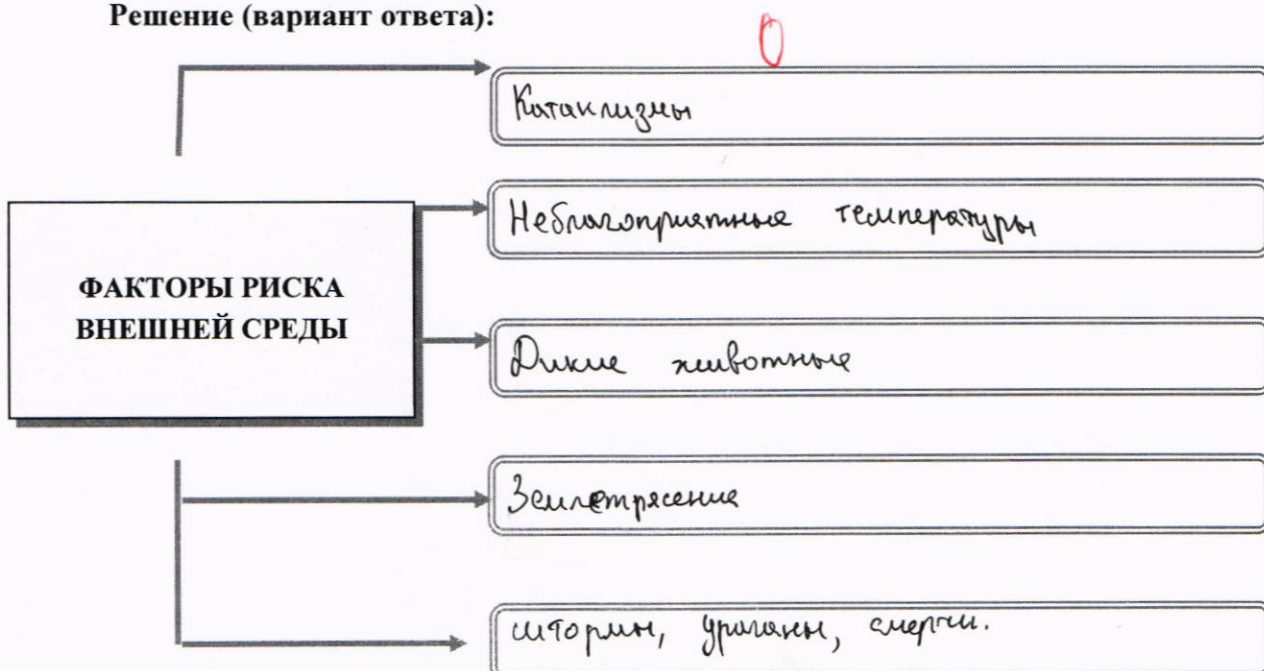
26

- за правильный ответ начисляется – 20 баллов (по 1 баллу за каждый верно названный узел (из 12 позиций) и по 2 балла за каждое верно указанное назначение группы узлов);

**Задание 3.**

А) Любая деятельность человека происходит в условиях постоянного воздействия внешней среды. Вам предлагается заполнить схему, вписав в неё основные факторы риска внешней среды.

Решение (вариант ответа):



**Б) Основываясь на знаниях в области основ обороны государства и воинской обязанности, Вам предлагается ответить на следующий вопрос: Кто является конструктором (главным конструктором) перечисленных единиц вооружения? Выберите фамилию и впишите напротив видов вооружения.**

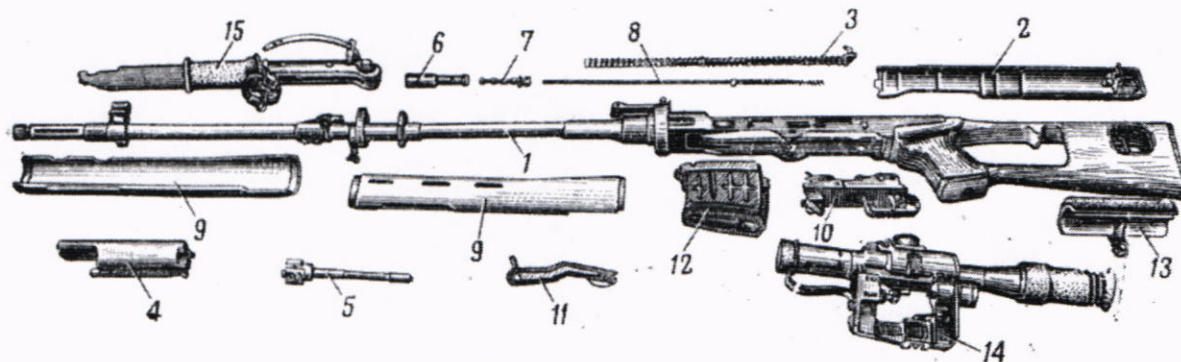
**Решение (вариант ответа):**

Единица вооружения	Конструктор (главный конструктор)
Автомат АКМ	Калашников М.Т. +
Вертолет Ка-26	Камов Н.И. +
Стратегический бомбардировщик ТУ-160	Андрей Терлик -
Пистолет ПМ-9	Макаров Н.Ф. +
Космический корабль «Восток»	Королев С.П. +
Реактивный бомбардировщик Ил-28	Ильюшин С.В. +
Самозарядный карабин СКС-45	Сикорский И.И. -
Самолет «Илья Муромец»	Мосин С.И. -
Унифицированная гусеничная платформа «Армата»	Близнюк В.И. -
Трехлинейная винтовка образца 1891 г.	Симонов С.Г. -

66

**Калашников М.Т., Камов Н.И., Близнюк В.И., Макаров Н.Ф., Королев С.П., Ильюшин С.В., Симонов С.Г., Сикорский И.И., Андрей Терлик, Мосин С.И..**

**В) Определите вид оружия и укажите названия его составных частей.**



Муниципальный этап всероссийской олимпиады школьников по «Основам безопасности жизнедеятельности»  
Ханты-Мансийский автономный округ – Югра  
2021-2022 учебный год  
10-11 классы

**Решение (вариант ответа):**

Вид оружия Винтовка

№	Составные части оружия	
1	Ствол	+
2	Крышка	-
3	Цетекс	-
4	Затвор	
5	Затвор	+
6	Пулочка	-
7	Часть пулочки	-
8	Шомпол	-
9	Нижняя крышка	-
10	Курок	-
11	Ручка	-
12	Механизм	+
13	Крышка	-
14	Прицел	+
15	Нож	+

**Оценка задания.** Максимальная оценка за правильно выполненное задание **38 баллов.**

56

- за правильный ответ части А начисляется - 10 баллов (по 2 балла за правильный ответ по каждой из пяти позиций);

- за правильный ответ части Б начисляется - 10 баллов (по 1 баллу за правильный ответ по каждой из десяти позиций);

- за правильный ответ части В начисляется - 18 баллов (по 1 баллу за правильный ответ по каждой из пятнадцати позиций составных частей оружия, и 3 балла за верно названный вид оружия);

**Задание 4.**

**А) Найдите ошибку в изображении плана эвакуации. Укажите название условных обозначений на плане эвакуации.**

**Решение (вариант ответа):**

1. Аварийных выходов должно быть несколько а на плане эвакуации показано, что все люди выходят через один выход.;
2. Телефон должен быть несколько, а не один, т.к. должен быть доступ к телефону полиции при эвакуации.





Условное обозначение	Название
	Точка с телефоном и аптечкой
	Пожарный щит
	Выход
	Выхода нет

Б) Опишите основные источники пищи в условиях выживания.

Решение (вариант ответа):

1. Дикие животные + ;
2. Ягоды, плоды + ;
3. Насекомые ;

46

В) Опишите обязанности граждан по обеспечению воинского учета.

Решение (вариант ответа):

1. Явиться в военком + ;

Муниципальный этап всероссийской олимпиады школьников по «Основам безопасности жизнедеятельности»  
Ханты-Мансийский автономный округ – Югра  
2021-2022 учебный год  
10-11 классы

2. Протестироваться на устойчивость психики ;
3. Сдать необходимые пройти необходимые мероприятия ;
4. Не уклоняться от армии ;
5. Предоставлять все необходимые документы ;
6. Пройти военную подготовку ;
7. Дать присягу. 4

Г) Раскройте классификацию пожаро-взрываоопасных объектов.

Решение (вариант ответа):

1. Категория «А»;  
Химические, атомные, электрические станции, нефтяные предприятия.
2. Категория «Б»;  
Мельные, сахарно-пушковые заводы, топливные заводы +
3. Категория «В»;  
автомобильные заводы, -
4. Категория «Г»;  
Гидроэлектростанции -
5. Категория «Д»  
Центральные электростанции, текстильные цеха, обувные заводы. -

Оценка задания. Максимальная оценка за правильно выполненное задание 37 баллов. 2

- за правильный ответ части А начисляется – 12 баллов (по 2 балла за каждую найденную ошибку в плане эвакуации, по 2 балла за каждое верно указанное название условного обозначения (из четырех позиций));
- за правильный ответ части Б начисляется – 6 баллов (по 2 балла за правильный ответ по каждой из трех позиций);
- за правильный ответ части В начисляется - 14 баллов (по 2 балла за правильный ответ по каждой из семи позиций);
- за правильный ответ части Г начисляется – 5 баллов (по 1 баллу за правильный ответ по каждой из пяти позиций).

Муниципальный этап всероссийской олимпиады школьников по «Основам безопасности жизнедеятельности»  
Ханты-Мансийский автономный округ – Югра  
2021-2022 учебный год  
10-11 классы

**МОДУЛЬ 2.**

**Задание 5. Ответьте на тестовые вопросы.**

№ п/п	Тестовые задания	Макс. балл	Кол-во баллов
	2	3	4
<b>Определите один правильный ответ</b>			
1	При организации однодневного турпохода рекомендуется выбирать расстояние до конечной точки маршрута не более: А) 10 км в одну сторону; Б) 15 км в одну сторону; В) 20 км в одну сторону; Г) 25 км в одну сторону.	1	
2	В каком году была официально признана эмблема «Красный крест на белом фоне»: А) 1812; Б) 1863; В) 1876; Г) 1914.	1	
3	Открытым хищением чужого имущества называют: А) кража; Б) мошенничество; В) грабеж; Г) вымогательство.	1	
4	Укажите правильное действие при ранении инородным предметом: А) Не извлекать из раны инородный предмет, наложить повязку вокруг инородного предмета, зафиксировав его салфетками или бинтами, вызвать скорую медицинскую помощь; Б) Срочно извлечь инородный предмет из раны, остановить кровотечение доступными способами, вызвать скорую медицинскую помощь; В) Не предпринимать никаких действий до прибытия медицинских работников; Г) Обработать рану раствором антисептика, закрыть рану стерильной салфеткой, вызвать скорую медицинскую помощь;	1	
5	Под уничтожением грызунов- переносчиков инфекций понимают: А) дезинфекцию; Б) дезинсекцию; В) дератизацию; Г) дегазацию.	1	
6	Временная изоляция и медицинское наблюдение за здоровыми гражданами, имеющими контакт с заболевшими карантинными болезнями - это: А) карантин;	1	

Муниципальный этап всероссийской олимпиады школьников по «Основам безопасности жизнедеятельности»

Ханты-Мансийский автономный округ – Югра

2021-2022 учебный год

10-11 классы

	Б) обсервация; В) изоляция; Г) наблюдение.		
7	Невидимый поток радиоактивных частиц, который характеризуется различной проникающей способностью - это: А) ионизирующее излучение; Б) уровень радиации; В) радиоактивное загрязнение; Г) радиоактивное заражение.	1	
8	<i>Пострадавшему с сильным венозным кровотечением была наложена давящая повязка на рану. Спустя несколько минут повязка пропиталась кровью. Укажите дальнейшие действия:</i> А) Удалить старую повязку, наложив на ее место новую; Б) Не трогая старую повязку, наложить кровоостанавливающий жгут; В) Наложить новую давящую повязку поверх старой с большим валиком на ране; Г) Сняв старую повязку, плотно затампонировать рану марлевыми салфетками, после чего повторно наложить давящую повязку;	1	
9	Что из перечисленного не относится к боевым традициям Вооруженных сил РФ: А) военная присяга; Б) боевое Братство; В) ротная песня; Г) милосердие к поверженному противнику;	1	
10	В какой статье уголовного кодекса РФ дано разъяснение ответственности граждан в случае умышленного заражения венерическими заболеваниями: А) статья 121 УК РФ; Б) статья 129 УК РФ; В) статья 105 УК РФ; Г) статья 108 УК РФ.	1	
11	Какой буквой обозначается класс горючести металлов: А) А Б) В В) Д Г) Е	1	
12	Укажите несуществующий род войск в составе современных сухопутных войск РФ: А) танковые; Б) мотострелковые; В) армейская авиация; Г) ракетные;	1	
13	До какого возраста возможно использование детской защитной камеры (КЗД-6)? А) до 1,5 лет;	1	

Муниципальный этап всероссийской олимпиады школьников по «Основам безопасности жизнедеятельности»

Ханты-Мансийский автономный округ – Югра

2021-2022 учебный год

10-11 классы

	Б) до 3 лет; В) до 2 лет; Г) до 5 лет.		
14	В какой статье уголовного кодекса РФ дано разъяснение ответственности граждан в случае оставления человека в опасности и неоказания первой помощи: А) статья 127 УК РФ; Б) статья 94 УК РФ; В) статья 209 УК РФ; Г) статья 125 УК РФ.	1	
<b>Определите несколько правильных ответов</b>			
15	Право на отсрочку от призыва на военную службу имеют граждане: А) обучающиеся по очной форме обучения; Б) граждане, получающие второе высшее образование; В) обучающиеся в магистратуре; Г) граждане, достигшие 27-летнего возраста Д) граждане, достигшие 25-летнего возраста	2	
16	Управлять квадроциклом, согласно ПДД, можно: А) с 16 лет; Б) имея права категории А, так как квадроцикл приравнен к мотоциклу; В) с 18 лет; Г) имея удостоверение тракториста-машиниста, так как квадроцикл приравнен к самоходной машине; Д) имея водительское удостоверение любой категории.	2	
17	К запрещающим дорожным знакам относятся: А) таможня; Б) опасность; В) железнодорожный переезд без шлагбаума; Г) уступите дорогу.	2	
18	В состав танкового экипажа танка Т-80 входят: А) водитель; Б) заряжающий; В) наводчик; Г) стрелок-радист; Д) механик-водитель.	2	
19	По длительности проведения эвакуация может быть: А) временной; Б) постоянной; В) среднесрочной; Г) долгосрочной; Д) короткой;	2	

Муниципальный этап всероссийской олимпиады школьников по «Основам безопасности жизнедеятельности»

Ханты-Мансийский автономный округ – Югра

2021-2022 учебный год

10-11 классы

20	Назовите заболевания, которые могут передаваться половым путем: А) СПИД; Б) холера; В) гонорея; Г) дерматит; Д) пневмония;	2	
Итого:		<b>26</b>	

**Матрица ответов на тестовые задания**

Номер теста	1	2	3	4	5	6	7	8	9	10
Верный ответ	А	Б	А	А	В	Б	А	Г	Г	А
	1	1	0	1	1	1	1	0	0	1
Номер теста	11	12	13	14	15	16	17	18	19	20
Верный ответ	В	В	А	Г	А, Г	В, Г	А, Б	В, А	А, В	А, В
	1	1	1	1	1	0	2	2	2	2

Примечание. Максимальное количество баллов за тестовые задания 26.

205.

**Маршрутный лист участника муниципального этапа всероссийской олимпиады школьников по Основам Безопасности Жизнедеятельности**


**10-11 класс**

Код участника ОБЖ-10-06

**Задание 1. Нарушение дыхания у младенца**

Женщина из соседнего купе в поезде сообщает Вам, что ее ребенку 10 месяцев во время приема пищи закашлялся, посинел, лежит без сознания. Окажите первую помощь.


**Максимальная оценка 10 баллов.**

№	Перечень ошибок и погрешностей	Штраф	Количество штрафов
1.	За каждый не выполненный пункт алгоритма	2 балл	
2.	За каждую ошибку при выполнении алгоритма	1 балл	
3.	Не вызвал Скорую медицинскую помощь (112)	5 баллов	
4.	Не обозначил «Контроль состояния до прибытия скорой помощи»	5 баллов	
		Итог баллов:	10
		Подпись судьи:	

**Задание 2. Повязка при ранениях грудной клетки**

Пострадавший при ДТП получил рану в области грудной клетки справа. Из раны при дыхании слышен звук выходящего воздуха. Окажите первую помощь.


**Максимальная оценка 20 баллов.**

№	Перечень ошибок и погрешностей	Штраф	Количество штрафов
1.	За каждый не выполненный пункт алгоритма	4 балл	
2.	За каждую ошибку при выполнении алгоритма	2 балл	
3.	Не вызвал Скорую медицинскую помощь (112)	10 баллов	
4.	Не обозначил «Контроль состояния до прибытия скорой»	10 баллов	
5.	Отказ от выполнения задания	20 баллов	
		Итог баллов:	20
		Подпись судьи:	

**Задание 3. Клиническая смерть**

Мужчина примерно 40 лет лежит на спине без движений после приступа болей в сердце. Окажите первую помощь.

**Максимальная оценка 10 баллов.**

№	Перечень ошибок и погрешностей	Штраф	Количество штрафов
1.	Безопасность	5 баллов	
2.	Не определил сознание	5 баллов	
3.	Не определил дыхание	5 баллов	
4.	Не вызвал Скорую медицинскую помощь (112)	10 баллов	
5.	Не проговорил «Продолжать базовую сердечно-легочную реанимацию до приезда скорой медицинской помощи»	2 балла	
6.	Не проговорил «Контроль пострадавшего каждые 2 минуты (дыхание, сознание)»	2 балла	
		Итог баллов:	10
		Подпись судьи:	

**Задание 4. Артериальное кровотечение**

Мужчина, вынимая оконную раму, разбил стекло. Большой осколок вонзился в ткани средней трети бедра. Мужчина сильно испугался, выдернул стекло, и сразу же началось сильное кровотечение пульсирующей струей. Окажите первую помощь.

**Максимальная оценка 10 баллов**

№	Перечень ошибок и погрешностей	Штраф	Количество штрафов
1.	Безопасность	10 баллов	
2.	За каждый не выполненный пункт алгоритма	2 балл	
3.	За каждую ошибку при выполнении алгоритма	1 балл	
4.	Не вызвал Скорую медицинскую помощь (112)	10 баллов	
5.	Не обозначил «Контроль состояния до прибытия скорой»	10 баллов	
		Итог баллов:	10
		Подпись судьи:	<u>Koz</u>

**Задание 5. Сборка массогабаритной модели автомата (АКМ, АК-74).**

Условия: За линией старта на полу лежит разобранный автомат. Участник производит сборку лежащего на полу разобранного автомата в положении на колене или лежа.

**Максимальная оценка —10 баллов.**

№	Перечень ошибок и погрешностей	Штраф	Количество штрафов
1.	Не спущен курок после присоединения крышки ствольной коробки	5 балла	
2.	Нарушение последовательности	2 балла	
3.	Нарушение безопасности	5 баллов	
4.	Не поставлен на предохранитель после спуска	4 балла	
5.	Отказ от выполнения задания	10 баллов	
		Итог баллов:	
		Подпись судьи:	<u>[подпись]</u>

**Задание 6. Метание гранаты (теннисный мяч).**

Условия: На полу находятся два теннисных мяча. На расстоянии не менее 15 метров установлена цель (гимнастический мат). Участник выполняет два броска по цели. Задача: прямым попаданием поразить цель.

**Максимальная оценка —10 баллов.**

№	Перечень ошибок и погрешностей	Штраф	Количество штрафов
1.	Заступ за контрольную линию - Положительный результат не засчитывается		
2.	За каждое непопадание в мишень	5 баллов	0
		Итог баллов:	0
		Подпись судьи:	<u>[подпись]</u>

**Задание 7. Стрельба из пневматической винтовки по откидным мишеням.**

Условия: На поражение 5-ти откидных мишеней №8 участнику предоставляется 8 выстрелов (выдается 8 пуль).

**Максимальная оценка - 10 баллов.**

№	Перечень ошибок и погрешностей	Штраф	Количество штрафов
1.	за каждый непораженную мишень	2 балла	
		Итог баллов:	10
		Подпись судьи:	<u>[подпись]</u>




**Задание 1(8). Узлы.**

Вводная: Перед вами находится три карточки.

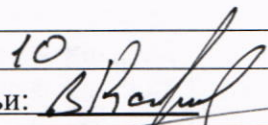
Задание: Выберите любую карточку и завяжите необходимый узел.

Максимальная оценка - 10 баллов.

№	Перечень ошибок и погрешностей	Штраф	Количество штрафов
1.	За неправильно завязанный узел	10 баллов	
2.	За отказ от выполнения задания	10 баллов	
		Итог баллов:	10
		Подпись судьи: 	

**Задание 2(9). Задание: Выложите на столе, используя карандаши, два выбранные вами сигнала:** (Международный код визуальных сигналов «земля-воздух»)


Максимальная оценка - 10 баллов.

№	Перечень ошибок и погрешностей	Штраф	Количество штрафов
1.	За каждый неправильный сигнал	5 баллов	
2.	Отказ от выполнения задания	10 баллов	
		Итог баллов:	10
		Подпись судьи: 	

**Задание 3(10). Преодоление зоны химического заражения.**

Условия: На исходном рубеже находятся общевойсковой защитный костюм ОЗК (возможен ЛЛ-1) и гражданский противогаз (ГП-5 или ГП-7). На расстоянии шага от места нахождения СИЗ обозначена указателем «зона заражения», представляющая собой кривой коридор (типа лабиринта) длиной до 5 м. и шириной 1,5 м.


Максимальная оценка - 10 баллов.

№	Перечень ошибок и погрешностей	Штраф	Количество штрафов
1.	<i>Ошибки при надевании общевойскового защитного костюма ОЗК:</i>		
	за каждый не застёгнутый шпенец	1 балл	
	чулки не закреплены на поясном ремне	1 балл	
2.	<i>Ошибки при надевании гражданского противогаза:</i>		
	открыты глаза	2 балла	
	не задержано дыхание	2 балла	
	не сделан резкий выдох	2 балла	
	перекос шлем-маски противогаза	1 балл	
3.	За каждое нарушение порядка норматива	1 балл	1
4.	Отказ от выполнения задания	10 баллов	
		Итог баллов:	9
		Подпись судьи: 	

**Задание 4(11). Снятие средств индивидуальной защиты.**

Условия: Выйдя из зоны химического заражения, участник на исходной точке в определенной последовательности с учетом направления ветра снимает общевойсковой защитный костюм ОЗК и гражданский противогаз. (Направление ветра указано стрелкой)

Максимальная оценка - 10 баллов.

№	Перечень ошибок и погрешностей	Штраф	Количество штрафов
1.	За каждое нарушение последовательности	1 балл	
2.	За каждое касание зараженного защитного комплекта	2 балла	1 + 1 + 1
3.	Снятие СИЗ произошло без учета ветра (за каждое).	2 балла	2
		Итог баллов:	5
		Подпись судьи: 	

### Задание 5(12). Подъём груза.

Условия: к опоре на высоте 2,5-3 метра от пола при помощи верёвки 0 6 мм прикреплен карабин, через который пропущена основная верёвка 0 10-12 мм длиной 10 м, на полу находится гиря 24 кг с ручкой и груз (набивной мяч). Участнику необходимо обвязать груз основной верёвкой, поднять его на высоту не менее 1,5 метров и закрепить, привязав свободный конец верёвки к гире одним из перечисленных узлов: «штык<sup>к</sup>», «стремя<sup>к</sup>», «булинь<sup>к</sup>», «карабинная удавка». Узлы, обозначенные символом «<sup>к</sup>» вяжутся с контрольными узлами.

**Максимальная оценка - 20 баллов.**

№	Перечень ошибок и погрешностей	Штраф	Количество штрафов
1.	Груз не обвязан или не поднят, или не закреплён	20 баллов	
2.	Падение верёвки 0 10-12 мм на пол (потеря возможности поднять груз на высоту не менее 2,5 м)	20 баллов	
3.	Падение груза при подъёме с повторением задания	4 балла *	
4.	Груз поднят на высоту менее 2,5 метров и закреплён	11 баллов	
5.	Падение груза после закрепления (привязывания к гире)	8 баллов*	
6.	Использован узел, не перечисленный в условиях задания	7 баллов	
7.	Использован узел, кроме «карабинной удавки», перечисленный в условиях задания, но не завязан контрольный узел	3 баллов	
8.	Задание не выполнялось	20 баллов	
		Итог баллов: 20	
		Подпись судьи: _____	

\*За каждую ошибку.

### Задание 6(13). Спасательные работы на воде.

Условия: Напротив контрольной линии, обозначенной на полу, на расстоянии 10 метров расположена «зона утопающего» - гимнастический мат на полу. От контрольной линии в сторону «зоны утопающего» лежит основная (диам. 10 мм) верёвка длиной не менее 15 м без петли. Участник должен: закрепить конец верёвки на своей руке штыковым узлом (учебник ОБЖ 6 класс изд. Дрофа); прямым попаданием попасть верёвкой в «зону утопающего», самостоятельно набирая верёвку (дается две попытки).

**Максимальная оценка - 10 баллов.**

№	Перечень ошибок и погрешностей	Штраф	Количество штрафов
1.	Заступ за контрольную линию - положительный результат не засчитывается		
2.	Не закреплена верёвка на руке (за каждый)	4 балла	
3.	Не попадание петли верёвки в «зону утопающего» с 2-х попыток	10 баллов	
		Итог баллов: 10	
		Подпись судьи: _____	

№ задания	Результат	№ задания	Результат	Итог
1		1(7)		
2		2(8)		
3		3(9)		
4		4(10)		
5		5(11)		
6		6(12)		
		7(13)		
Сумма 1		Сумма 2		