

ШИФР 08-1-09  
участника муниципального этапа  
всероссийской олимпиады школьников по  
истории в 2020-2021 учебном году  
**Внимание!** Шифровать следует каждую  
страницу Вашей письменной работы.

Ф. И. О. учащегося (в имен. пад.)

Мисайлова Елена Анатольевна

Дата

рождения 29.04.2006

Образовательное учреждение (полное  
название) МАОУ №5 "Лицей"

Город, село

Меленки

Район

Класс

8а

Ф. И. О. учителя (полностью)

Евсеева Оксана Александровна

08-11-09 415.  
Handwritten notes and signature in red ink.

Муниципальный этап всероссийской олимпиады школьников по истории  
Ханты-Мансийский автономный округ- Югра  
2020-2021 учебный год

Задания  
8 класс

В задании 1-5 выберите один верный ответ (за каждый правильный ответ - 1 балл).

1. Назовите территорий, с правителями которых потомками Ярослава Мудрого НЕ были заключены династические браки.

- А) Бургундия, Англия, Швеция, Хорватия
  - Б) Польша, Англия, Швеция, Хорватия
  - В) Англия, Швеция, Венгрия, Бургундия
  - Г) Хорватия, Бургундия, Франция, Швеция
0. Б

2. Назовите полководца, которого А.В. Суворов называл «своей правой рукой».

- А) М.И. Кутузов
  - Б) П.А. Румянцев
  - В) Б.Х. Миних
  - Г) Г.А. Потемкин
0. Г

3. Определите, о каком военачальнике идет речь.  
Он не проиграл ни одного сражения, и ни один из его подчиненных не был пленен. Относился к врагам с великодушием истинного святого, был изображен на самом дорогом ордене в истории России.

- А) М.И. Кутузов
  - Б) А.В. Суворов
  - В) Ф.Ф. Ушаков
  - Г) П.С. Нахимов
0. Б

4. Назовите российскую императрицу, правившую самостоятельно.

- А) Максимилиана Вильгельмина Августа София Мария Гессенская
  - Б) Фридерика Луиза Шарлотта Вильгельмина Прусская
  - В) Луиза Мария Августа Баденская
  - Г) София Августа Фредерика Ангальт-Цербстская (Екатерина II Великая)
1. Г

5. Назовите орган власти, о появлении которого идет речь в воспоминаниях князя А.М. Курбского.

«Царь еще и почтен царством, а дарований, которых от Бога не получил, должен искать доброго и полезного совета не токмо у советников, но и у всенародных человек, понеже дар Духа дается не по богатству внешнему и по силе царства, но по правости душевной».

- А) Боярская Дума
  - Б) Земский Собор
  - В) вече
1. Б

Г) Государева Казна

Б (Первый Зем. собор учрежден в 1549 г. Иваном Грозным (1533-1584 г.))

6. Выберите документы, устанавливавшие и закреплявшие в России крепостное право.

А) Русская Правда Ярослава Мудрого

Б) Соборное уложение 1649 г. при Алексее Михайловиче (1645-1676)

В) Судебник 1550 г.

Г) Устав Владимира Мономаха

Д) Судебник 1497 г. при Иване III

1 Б, Д

7. Дайте краткое обоснование ряда (что объединяет перечисленные события) и укажите, какой из элементов является лишним по данному основанию (за обоснование ряда - 1 балл, за правильное исключение - 1 балл).

А) Ф.С. Рокотов; Б) Д.Г. Левицкий; В) В.Л. Боровиковский; Г) С.Ф. Щедрин

1 Г) Щедрин (пожарный)

В заданиях 8-9 допишите правильный ответ (за правильный ответ - 2 балла).

8. Назовите сражение, о котором идет речь в документе.

«...На том поле грозные тучи сошлись. Часто сверкали в них молнии и гремели громы могучие. То ведь сразились сыны русские с погаными татарами, чтоб отомстить за свою обиду. Сверкают их доспехи золоченые, гремят князья русские мечами булатными по шлемам хиновским. А бились с утра до полудня в субботу на Рождество святой богородицы...».

1 Куликовское сражение (1380 г.) при Д. Донском (1350-1389 г.)

9. Назовите территорию, о присоединении которой идет речь в документе.

«В прошедшую с Портою Оттоманскою войну, когда силы и победы оружия Нашего давали Нам полное право оставить в пользу Нашу ..., в руках наших бывший, Мы сим и другими пространными завоеваниями жертвовали тогда возобновлению доброго согласия и дружбы с Портою Оттоманскою, преобразив на тот конец народы Татарские в область вольную и независимую, чтоб удалить навсегда случаи и способы к распрям и остуде, происходившим часто между Россией и Портою в прежнем Татар состоянии.»

0 Не достигли Мы, однако ж, в пределах той части империи Нашей тишины и безопасности, кои долженствовали быть плодами сего постановления. Татары, преклоняясь на чужие внушения, тотчас стали действовать вопреки собственному благу, от нас дарованному».

Новгородская республика (1478 г.) (на тот момент республика)

В заданиях 10-11 соотнесите элементы столбцов таблицы.

10. Установите правильное соответствие между датами, событиями в истории Сибири и их участниками (за каждое правильное соответствие - 1 балл, максимальное количество баллов - 10).

1586	1. Открытие Шаимского месторождения	А) Ф. Борятинский, В. Оничков
1587	2. Основание Тобольска	Б) Г.И. Норкин
1593	3. Основание Сургута	В) Д. Чулков

1960	4. Основание Тюмени	Г) С.Н. Урусов
1965	5. Открытие Самотлорского месторождения	Д) В. Сукин, И. Мясной

58

1586	1587	1593	1960	1965
2 -	4 -	3 ✓	<del>8</del> 1 ✓	<del>4</del> 5 ✓
A -	D -	B -	<del>8</del> Г ✓	Б ✓

11. Установите правильное соответствие между терминами «Русской правды» и их значением (за каждое правильное соответствие - 1 балл, максимальное количество баллов - 4).

1. Ногата	А. Остаток
2. Прок	Б. Указание, правило, постановление; налог, пеня, штраф, судебная пошлина
3. Урок	В. Денежная единица, равная 1/20 гривны
4. Перевес	Г. Место для ловли птиц и зверей

2

1	2	3	4
В ✓	Г -	Б ✓	А -

Выполните задания 12-14 по иллюстрациям.

12. Сопоставьте скульпторов XVIII в. и их работы. Ответ оформите в виде перечня элементов под соответствующими номерами (за каждое правильное соответствие - 2 балла, максимальное количество баллов - 12).

А) Ф.И. Шубин; Б) М.И. Козловский; В) Э.М. Фальконе; Г) К.Б. Растрелли

1



2



3



4



5



6




4.

1. A 2
2. B -
3. B -
4. B -
5. A 2
6. ~~A~~ B Г -

13. А) Назовите авторов икон. Б) Расположите иконы в хронологическом порядке. Ответ оформите в виде перечня элементов под соответствующими номерами (за каждое правильное имя – 2 балла, за правильную хронологическую последовательность - 3, максимальное количество баллов - 11).

1



2



3



4



А.


1. -
2. А. Рублев 2
3. 2
4. -

Б.

2241 3

50

14. Назовите имена исторических деятелей, изображенных на портретах. Укажите примерное время и сферы деятельности каждого из них. Ответ оформите в виде перечня элементов под соответствующими номерами (за каждое правильное имя – 1 балл, за каждое правильное указанное время и сферу деятельности – 1 балл, максимальное количество баллов - 12).

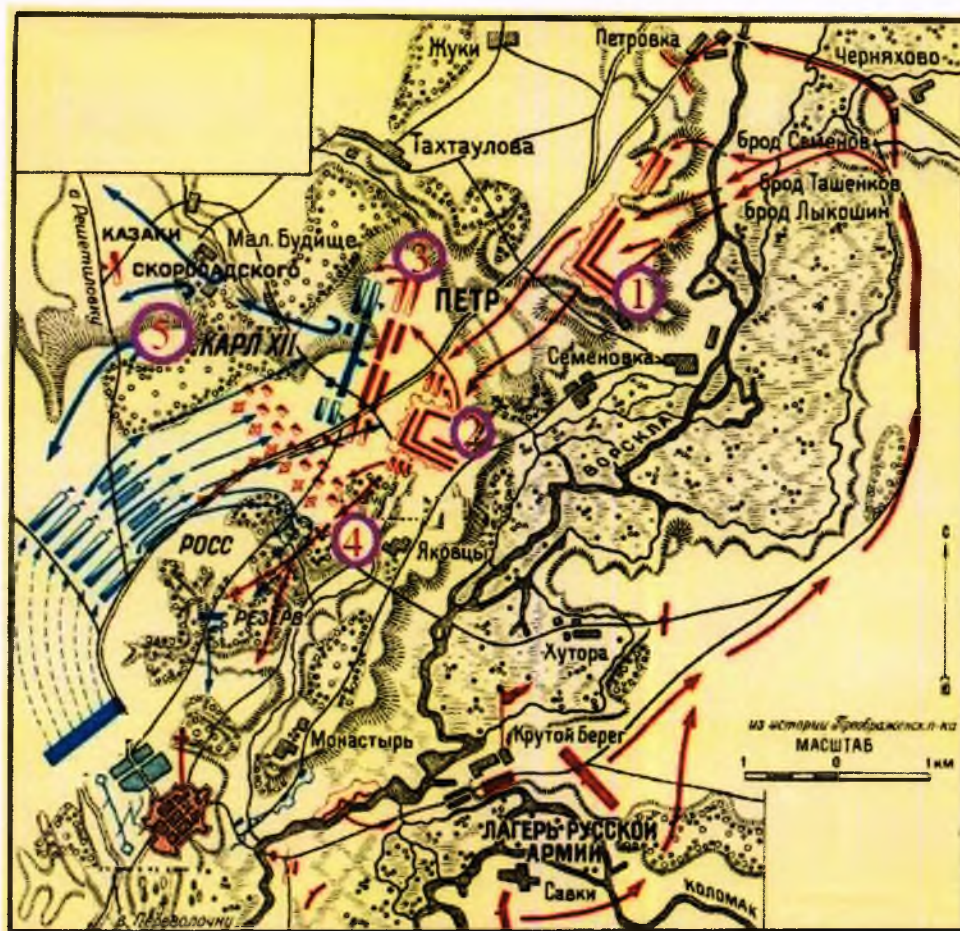


25.

1. ~~Арагонский Никитин. Им написано "Хождение за три моря" (1367).~~
2. ~~Византизм I (980-1015). Пришел в 988 г. христианство.~~
3. ~~Борис Годунов (1598-1605). Его правление относится к пери.~~
4. ~~Иосиф Владимирович (1019-1054). Во время его правления~~
5. ~~Софья Алексеевна (1682-1689) была религией Петра I и Иоанн V.~~
6. ~~Александр I (Григорий Орловский). Его правление относится к Петру I (1698-1813) времени. Правил он в 1801-1825 гг. Был убит из-за освобождения русских торговых портов.~~

15. Выполните задания по карте.

2. на Руси. Был в 1682 г. с ее временем свез. стрельбный Бунт 1682 г.
3. огу Смутного времени (1598-1605 г.). Его сестра ави. женой Роману Ивановичу (1584-1598) и правил он от его имени. С этим временем связано избр. митрополита Иова (1598 г.). Был очень обожован и умен.
4. произошли огромный рост культуры (строились церкви, к примеру Софийский собор 1037 г. в Киеве). Очень умный и обожов. человек. "Русская Правда" составление. ++-ой Русь.



1) Назовите сражение, представленное на карте, и его точную дату (за правильный ответ - 1 балл).

1 Полтавская битва 1709 г. (во время Северной войны 1700-1721 гг.)

2) Соотнесите фрагменты документа с этапами сражения, обозначенными на карте цифрами. Ответ оформите в виде перечня элементов под соответствующими буквами (за каждое правильное соответствие - 2 балла, максимальное количество баллов - 10).

А. 24-го числа пошли мы далее со всею армеею и стали с четверть мили от неприятеля и, дабы оной на нас нечаянно не напал, учинили около обозу транжамент

Б. Сего месяца 20 дня перешли мы со всею армеею через (реку) Ворсклу и по ею сторону оной с малую миллю от неприятельской армии стали.

В. И как войско наше таковым образом в ордер баталии установясь, на неприятеля пошло, и тогда в 9-м часу перед полуднем атака и жестокой огонь с обеих сторон начался, которая атака от наших войск с такою храбростию учинена, что вся неприятельская армия по получасном бою с малым уроном наших войск <...> как кавалерия, так и инфантерия веема опровергнута, так что швецкая инфантерия не единожды потом не остановилась, но без остановки от наших шпагами, багинетами и пиками колота, и даже до обретающегося вблизи лесу, яко скоты, гнаны и биты.

Г. Между тем послал его царское величество (Петр I. - Ред.) его светлость генерала князя Меншикова да при нем генерала-лейтенанта Ренцеля с некоторою частию кавалерии и инфантерии к Полтаве, дабы еще в сукурс неприятелю идущия войска, також и в шанцах оставшагося неприятельского генерала-маора Роза с неприятельскими войски атаковать и помянутый город от блокады веема освободить.

Д. Наша же кавалерия на правой руке между лесом поставлена была, и между оною несколько редут 3) зделано, и людми и пушками осажены, и изволил его царское величество всякое предуготовление чинить к нападению на неприятеля.

А. 3 -

Б. 2 -

- В. 5 +  
 Г. 1 -  
 Д. 4 -

3) Заполните пропуски в тексте. Ответ оформите в виде перечня элементов под соответствующими номерами (за каждый правильно заполненный пропуск – 1 балл, максимальное количество баллов – 4).

И с нашей стороны правое крыло кавалерии командовал генерал-лейтенант \_\_\_\_ (1) \_\_\_\_ ... левое же крыло командовал его светлость князь \_\_\_\_ (2) \_\_\_\_, понеже тамо его пребывание потребнейше было. А корпус баталии комавдовал сам его царское величество <...> и при том господин генерал-фельдмаршал \_\_\_\_ (3) \_\_\_\_ також генералы от инфантерии князь Репнин и Аларт <...> А артиллериею управлял генерал-порутчик от артиллерии \_\_\_\_ (4) \_\_\_\_ . И всякой в своем назначенном месте управляли со изрядным опыты мужества и воинского искусства своего.

1. Ренцев -  
 2. Меньшиков +  
 3. Толмачи -  
 4. \_\_\_\_\_

16. Заполните пробелы в тексте (Любавский М.К. Русская история от древности до конца XVIII в.). Ответ оформите в виде перечня элементов под соответствующими номерами (за каждый правильно заполненный пропуск – 1 балл, максимальное количество баллов – 8).

Первое \_\_\_\_ (1) \_\_\_\_, которое собралось на выручку Москвы, не достигло цели. Это был критический момент в истории Московского государства, оно достигло в своем затруднительном положении последней крайности: западная часть Русского государства была уже во власти внешних врагов. 3 июня 1611 Сигизмунд взял \_\_\_\_ (2) \_\_\_\_ . 16 июля шведы захватили \_\_\_\_ (3) \_\_\_\_, а в Пскове в то же самое время утвердился третий \_\_\_\_ (4) \_\_\_\_ . Но этот критический момент был в то же время поворотным моментом. Усиление внешних и внутренних врагов вызвало в населении новый прилив патриотического чувства, новые усилия к одолению врагов родины.

Первый пример подали нижегородцы. Нижегородцы были увлечены пламенной речью своего земского старосты \_\_\_\_ (5) \_\_\_\_ . Весть о деятельности нижегородцев скоро распространилась по городам Поволжья, и к ним стали приставать бездомные дворяне и дети боярские. Однако нижегородское ополчение было еще слишком незначительно, а потому нижегородцы обратились к другим городам. На призыв нижегородцев откликнулось много городов. Когда ополчение выросло уже во внушительную силу, оно выступило в марте \_\_\_\_ (6) \_\_\_\_ вверх по Волге по дороге в Ярославль. Князь \_\_\_\_ (7) \_\_\_\_, ставший во главе ополчения, предпринял этот обходной путь, чтобы по дороге собрать еще ратных сил.

Он не спешил к Москве. Но пришли вести о приходе гетмана \_\_\_\_ (8) \_\_\_\_ с большими силами на выручку литовского гарнизона, сидевшего в Кремле. Ополчение ускоренным маршем отправилось к Москве. 22 октября 1612 г. Им был взят Китай-город, а 26 октября сдался Кремль. Итак, государственный центр был очищен. Оставалось реставрировать царскую власть. За это и взялись русские люди по очищению Москвы от поляков.

1. ополчение (шахов) +  
 2. Рязань -  
 3. Александр Трубецкой -  
 4. Александр Трубецкой +  
 5. Курбля Минин +  
 6. 1612 г. +



- 55.
7. Потопский +
8. помещи -

**17. Выполните задания к тексту документа.**

- 1-е. ... название есть следствие, истекающее от качества и добродетели начальствовавших в древности мужей, отличивших себя заслугами, чем обращая самую службу в достоинство, приобрели потомству своему нарицание благородное.
- 9-е. Без суда да не лишится благородной чести.
- 10-е. Без суда да не лишится благородной жизни.
- 11-е. Без суда да не лишится благородной имения.
- 12-е. Да не судится благородной, кроме своими равными.
- 15-е. Телесное наказание да не коснется до благородного.
- 21-е. Благородный имеет право по прозванию своем писаться помещиком и писаться как помещиком его поместий, так и вотчинником своих родовых, наследственных и вотчин.
- 36-е. Благородной самолично изъемлетса от личных податей.

- 1) Назовите документ, фрагмент которого представлен и дату его издания (за **правильный ответ - 1 балл**).
- 2) Назовите сословие, о котором идет речь в документе (за **правильный ответ - 1 балл**).
- 3) На основании текста документа перечислите не менее 6 прав этого сословия (за **каждое правильно выделенное право - 1 балл, максимальное количество баллов - 6**).
- 4) На основании знаний курса не менее 3-х аргументов, подтверждающих важность документа для сословия (за **каждый аргумент - 2 балла, максимальное количество баллов - 6**).

10. 1. Можовская грамота дворянства (при Ек. II)
2. Дворянин
3. 1. Лицно княжеско-вельможности. +
2. На обложение землемы. +
3. На различие дворянских поратей. -
4. На приобретение поместьем своим нарицание благородное. 5. На прозвание своим именован помещиком.
4. Важность документа доказывает, в том, что там прописаны все права дворянства, которые закладываются со света, подтверждающих и земли.
- 1 3. 6. На не судится, кроме себе равными.
4. На не бичаться именован.

- 18. Назовите дату, не относящуюся к крупнейшему танковому сражению Великой Отечественной войны (за **правильный ответ - 2 балла**).**
- А) 5-12 июля 1943 г.,
- Б) 12 июля - 18 августа 1943 г.
- В) 3-23 августа 1943 г.
- Г) 7-28 августа 1943 г.
- 03