

Муниципальный этап всероссийской олимпиады школьников по «Основам безопасности жизнедеятельности»
Ханты-Мансийский автономный округ – Югра
2021-2022 учебный год
10-11 классы

ВСЕРОССИЙСКАЯ ОЛИМПИАДА ШКОЛЬНИКОВ

ПО ОСНОВАМ БЕЗОПАСНОСТИ

ЖИЗНЕДЕЯТЕЛЬНОСТИ

(МУНИЦИПАЛЬНЫЙ ЭТАП)

ТЕОРЕТИЧЕСКИЙ ТУР

возрастная группа (10-11 классы)

05М-10-03

64

Уважаемый участник олимпиады!

Вам предстоит выполнить теоретические (модуль 1) и тестовые задания (модуль 2). Время выполнения заданий теоретического тура **90** (минут).

Выполнение теоретических заданий модуля 1 целесообразно организовать следующим образом:

– не спеша, внимательно прочитайте задание и определите, наиболее верный и полный ответ;

– отвечая на теоретический вопрос, обдумайте и сформулируйте конкретный ответ только на поставленный вопрос;

– если Вы отвечаете на задание, связанное с заполнением таблицы или схемы, не старайтесь детализировать информацию, вписывайте только те сведения или данные, которые указаны в вопросе;

– особое внимание обратите на задания, в выполнении которых требуется выразить Ваше мнение с учетом анализа ситуации или поставленной проблемы. Внимательно и вдумчиво определите смысл вопроса и логику ответа (последовательность и точность изложения). Отвечая на вопрос, предлагайте свой вариант решения проблемы, при этом ответ должен быть кратким, но содержать необходимую информацию;

– после выполнения всех предложенных заданий еще раз удостоверьтесь в правильности выбранных Вами ответов и решений.

Выполнение заданий модуля 2 целесообразно организовать следующим образом:

– не спеша, внимательно прочитайте тестовое задание;

– определите, какой из предложенных вариантов ответа (в случае их наличия) наиболее верный и полный;

Муниципальный этап всероссийской олимпиады школьников по «Основам безопасности жизнедеятельности»
Ханты-Мансийский автономный округ – Югра
2021-2022 учебный год
10-11 классы

– напишите ответ (на задания со свободным ответом), либо букву, цифру, соответствующую выбранному Вами ответу (на задания с выбором ответа из предложенных);

– продолжайте, таким образом, работу до завершения выполнения заданий;

– после выполнения всех предложенных заданий еще раз удостоверьтесь в правильности ваших ответов;

– если потребуется корректировка выбранного Вами варианта ответа, то неправильный вариант ответа зачеркните крестиком и рядом напишите новый.

Предупреждаем Вас, что:

– при оценке заданий модуля 2, где необходимо определить один правильный ответ, 0 баллов выставляется за неверный ответ и в случае, если участником отмечены несколько ответов (в том числе правильный), или все ответы;

– при оценке заданий модуля 2, где необходимо определить все правильные ответы, 0 баллов выставляется, если участником отмечены неверные ответы, большее количество ответов, чем предусмотрено в задании (в том числе правильные ответы) или все ответы.

Задание теоретического тура считается выполненным, если Вы вовремя сдаете его членам жюри.

Максимальная оценка – 150 баллов.

**МУНИЦИПАЛЬНЫЙ ЭТАП ВСЕРОССИЙСКОЙ ОЛИМПИАДЫ
ШКОЛЬНИКОВ 2021/2022 УЧЕБНОГО ГОДА ПО ОСНОВАМ
БЕЗОПАСНОСТИ ЖИЗНЕДЕЯТЕЛЬНОСТИ 7-8 КЛАСС**

Шифр участника

С	Т	ОБЖ			
---	---	-----	--	--	--

МОДУЛЬ 1.

Задание 1.

А) Перечислите мероприятия, выполнение которых возможно при оказании первой помощи.

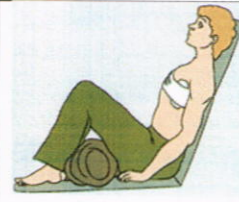
Решение (вариант ответа):

1. Непрямой массаж сердца ;
- + 2. Искусственная вентиляция легких (искусственное кровообращение) ;
- + 3. расположение пострадавшего в правильное позу ;
4. предкардиальный удар. ;
- + 5. остановление кровотечения с помощью повязок, жгутов ;
6. наложение шин. ;
7. утепление конечностей при обморожении ;
8. наложение стерильных повязок при ожогах ;
9. промывание ран ;
10. ;
11. ;

3

Б) Напишите название данного расположения пострадавшего и перечислите состояния, при которых оно используется.

Решение (вариант ответа):



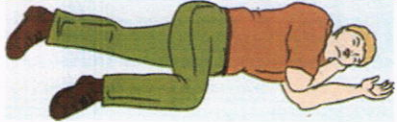
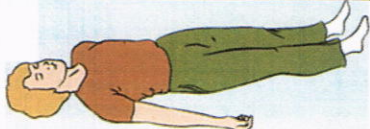
Положение пострадавшего	Название положения и когда оно применяется
	<p>1. Поза лежа на спине с приподнятой верхней частью туловища а) травма грудной клетки, верхней части туловища</p> <p>2</p>

Муниципальный этап всероссийской олимпиады школьников по «Основам безопасности жизнедеятельности»

Ханты-Мансийский автономный округ – Югра

2021-2022 учебный год

10-11 классы

	<p>2. <u>Положение лежа с разведёнными коленями</u></p> <p>1 а) <u>травмы таза, ног</u></p>
	<p>3. <u>положение лежа с приподнятыми коленями</u></p> <p>1 а) <u>обморок</u></p> <p>б) _____</p>
	<p>4. <u>удобное положение на боку</u></p> <p>3 а) <u>кости</u></p> <p>б) <u>эпителия</u></p> <p>в) _____</p>
	<p>5. <u>положение лежа на спине</u></p> <p>1 а) <u>климатская смерть, кости</u></p>

Оценка задания. Максимальная оценка за правильно выполненное задание 29 баллов.


- за правильный ответ части А начисляется - 11 баллов (по 1 баллу за правильный ответ по каждой из одиннадцати позиций);

- за правильный ответ части Б начисляется – 18 баллов (по 2 балла за каждое верно указанное название расположения, а также по 1 баллу за правильный ответ по каждой из восьми позиций в его содержании);

Задание 2. Укажите название узлов, представленных в таблице, и укажите их назначение.

Решение (вариант ответа):

Узлы и их назначение





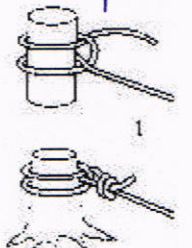


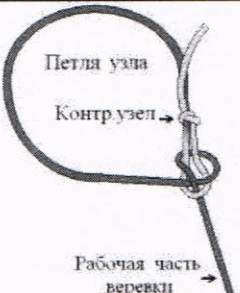
Изображение узла	Название узла
<p>Назначение: <u>для связывания двух веревок разного диаметра</u></p>	
	<p><u>встречный</u></p> <p>1</p>

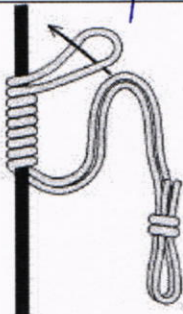
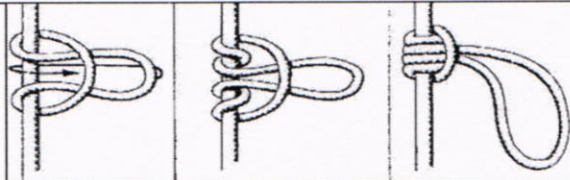

Муниципальный этап всероссийской олимпиады школьников по «Основам безопасности жизнедеятельности»

Ханты-Мансийский автономный округ – Югра

2021-2022 учебный год

10-11 классы

	<p>трейбвэйл 1</p>
<p>Назначение: для связывания двух веревок разного ^{одинакового} диаметра —</p> 	
	
	
<p>Назначение: для связывания двух веревок одинакового ^{закрепления} диаметра на опоре</p>	
	
	
	<p>штыковой 1</p>
	<p>бушель 1</p>

<p><i>Назначение:</i> для закрепления веревки на опоре и использования при переправе через реку —</p>	
	
	<p>саморазвязывающийся —</p>
 <p>2 оборота</p>	<p>закрепляющий —</p>

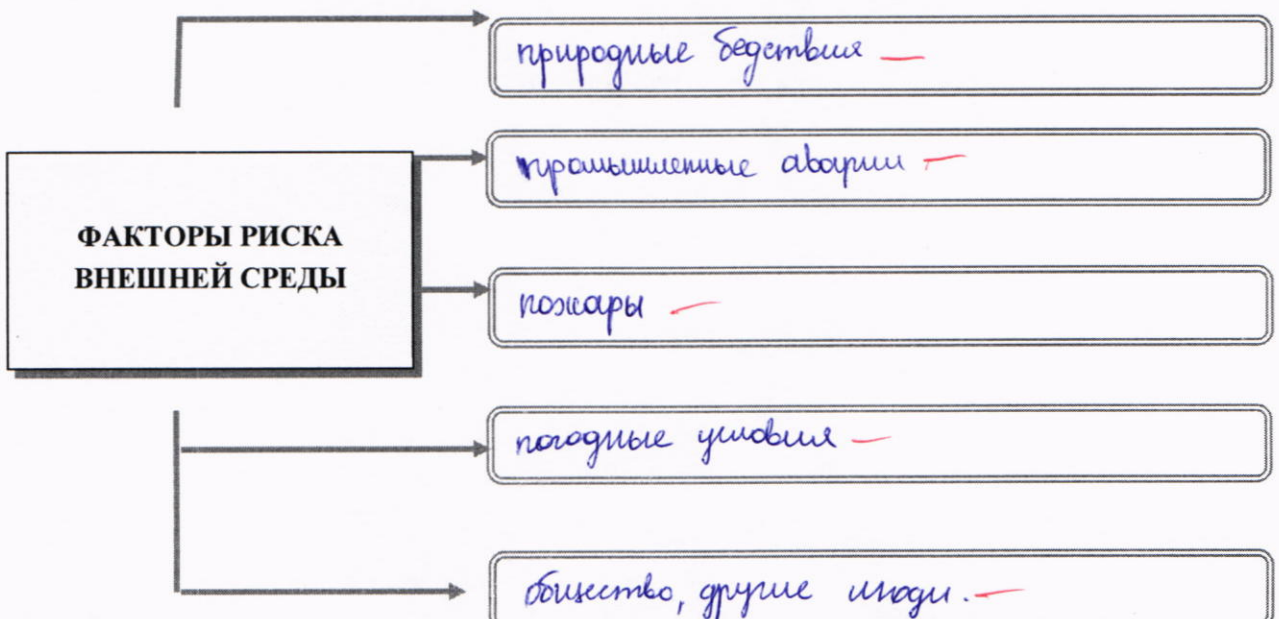
Оценка задания. Максимальная оценка за правильно выполненное задание 20 баллов.

- за правильный ответ начисляется – 20 баллов (по 1 баллу за каждый верно названный узел (из 12 позиций) и по 2 балла за каждое верно указанное назначение группы узлов);

Задание 3.

А) Любая деятельность человека происходит в условиях постоянного воздействия внешней среды. Вам предлагается заполнить схему, вписав в неё основные факторы риска внешней среды.

Решение (вариант ответа):



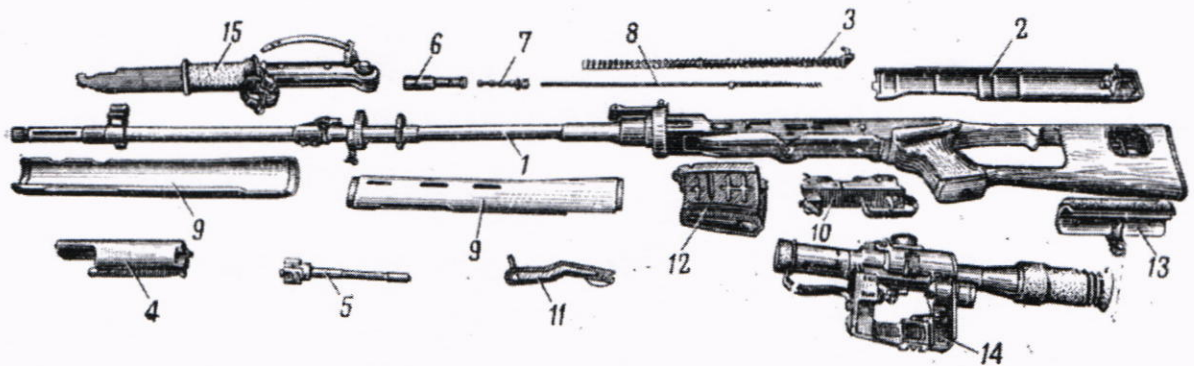
Б) Основываясь на знаниях в области основ обороны государства и воинской обязанности, Вам предлагается ответить на следующий вопрос: Кто является конструктором (главным конструктором) перечисленных единиц вооружения? Выберите фамилию и впишите напротив видов вооружения.

Решение (вариант ответа):

Единица вооружения	Конструктор (главный конструктор)
Автомат АКМ	Калашников М.Т. +
Вертолет Ка-26	Камов Н.И. +
Стратегический бомбардировщик ТУ-160	Андрей Терлик -
Пистолет ПМ-9	Макаров Н.Ф. +
Космический корабль «Восток»	Королев С.П. +
Реактивный бомбардировщик Ил-28	Ильюшин С.В. +
Самозарядный карабин СКС-45	Симонов С.Г. +
Самолет «Илья Муромец»	Сикорский И.И. +
Унифицированная гусеничная платформа «Армата»	Близнюк В.И. -
Трехлинейная винтовка образца 1891 г.	Мосин С.И. +

8
Калашников М.Т., Камов Н.И., Близнюк В.И., Макаров Н.Ф., Королев С.П., Ильюшин С.В., Симонов С.Г., Сикорский И.И., Андрей Терлик, Мосин С.И..

В) Определите вид оружия и укажите названия его составных частей.



Муниципальный этап всероссийской олимпиады школьников по «Основам безопасности жизнедеятельности»
Ханты-Мансийский автономный округ – Югра
2021-2022 учебный год
10-11 классы

Решение (вариант ответа):

Вид оружия Автомат Калашникова Вилтовка

№	Составные части оружия
1	дуло —
2	крышка —
3	пружина —
4	
5	
6	пенал —
7	
8	шарнир —
9	
10	
11	
12	магазин +
13	
14	
15	ствольная коробка —

Оценка задания. Максимальная оценка за правильно выполненное задание **38 баллов**.

- за правильный ответ части А начисляется - 10 баллов (по 2 балла за правильный ответ по каждой из пяти позиций);

- за правильный ответ части Б начисляется - 10 баллов (по 1 баллу за правильный ответ по каждой из десяти позиций);

- за правильный ответ части В начисляется - 18 баллов (по 1 баллу за правильный ответ по каждой из пятнадцати позиций составных частей оружия, и 3 балла за верно названный вид оружия);

Задание 4.

А) Найдите ошибку в изображении плана эвакуации. Укажите название условных обозначений на плане эвакуации.

Решение (вариант ответа):

1. • На плане всего лишь 2 оповещателя, их должно быть больше; пожарная кнопка и телефон находятся в одном месте;
2. _____

0



Условное обозначение	Название
	пожарная кнопка +
	пожарный край +
	путь к эвакуационному выходу +
	границы помещения —

6

Б) Опишите основные источники пищи в условиях выживания.

Решение (вариант ответа):

1. — оставшиеся запасы _____;
2. + ~~дерево~~ растения, ягоды, грибы, растущие вместе выживающих _____;
3. + животные _____;

4

В) Опишите обязанности граждан по обеспечению воинского учета.

Решение (вариант ответа):

1. — хранить военный билет _____;

Муниципальный этап всероссийской олимпиады школьников по «Основам безопасности жизнедеятельности»
Ханты-Мансийский автономный округ – Югра
2021-2022 учебный год
10-11 классы

2. + сообщать о каких-либо изменениях личной информации;
3. - убавиться с военной службы при изменении места жительства;
4. + вовремя явиться на вызов.
5. + встать на военный учет.
6. _____;
7. _____;

6

Г) Раскройте классификацию пожаро-взрываоопасных объектов.

Решение (вариант ответа):

1. Категория «А»;
- производства сахарной пудры, муки.
2. Категория «Б»;
- химические производства
3. Категория «В»;
- текстильная промышленность.
4. Категория «Г»;
- мебельные производства.
5. Категория «Д»
- металлургические производства.

0

Оценка задания. Максимальная оценка за правильно выполненное задание 37 баллов.

- за правильный ответ части А начисляется – 12 баллов (по 2 балла за каждую найденную ошибку в плане эвакуации, по 2 балла за каждое верно указанное название условного обозначения (из четырех позиций));
- за правильный ответ части Б начисляется – 6 баллов (по 2 балла за правильный ответ по каждой из трех позиций);
- за правильный ответ части В начисляется - 14 баллов (по 2 балла за правильный ответ по каждой из семи позиций);
- за правильный ответ части Г начисляется – 5 баллов (по 1 баллу за правильный ответ по каждой из пяти позиций).

МОДУЛЬ 2.

Задание 5. Ответьте на тестовые вопросы.

№ п/п	Тестовые задания	Макс. балл	Кол-во баллов
	2	3	4
Определите один правильный ответ			
1	При организации однодневного турпохода рекомендуется выбирать расстояние до конечной точки маршрута не более: <input type="radio"/> А) 10 км в одну сторону; <input type="radio"/> Б) 15 км в одну сторону; <input type="radio"/> В) 20 км в одну сторону; <input checked="" type="radio"/> Г) 25 км в одну сторону.	1	
2	В каком году была официально признана эмблема «Красный крест на белом фоне»: А) 1812; <input checked="" type="radio"/> Б) 1863; В) 1876; Г) 1914.	1	
3	Открытым хищением чужого имущества называют: А) кража; Б) мошенничество; <input checked="" type="radio"/> В) грабеж; Г) вымогательство.	1	
4	Укажите правильное действие при ранении инородным предметом: <input checked="" type="radio"/> А) Не извлекать из раны инородный предмет, наложить повязку вокруг инородного предмета, зафиксировав его салфетками или бинтами, вызвать скорую медицинскую помощь; Б) Срочно извлечь инородный предмет из раны, остановить кровотечение доступными способами, вызвать скорую медицинскую помощь; В) Не предпринимать никаких действий до прибытия медицинских работников; Г) Обработать рану раствором антисептика, закрыть рану стерильной салфеткой, вызвать скорую медицинскую помощь;	1	
5	Под уничтожением гризунов- переносчиков инфекций понимают: А) дезинфекцию; Б) дезинсекцию; <input checked="" type="radio"/> В) дератизацию; Г) дегазацию.	1	
6	Временная изоляция и медицинское наблюдение за здоровыми гражданами, имеющими контакт с заболевшими карантинными болезнями - это: А) карантин;	1	

Муниципальный этап всероссийской олимпиады школьников по «Основам безопасности жизнедеятельности»

Ханты-Мансийский автономный округ – Югра

2021-2022 учебный год

10-11 классы

	<input checked="" type="radio"/> Б) обсервация; В) изоляция; Г) наблюдение.		
7	Невидимый поток радиоактивных частиц, который характеризуется различной проникающей способностью - это: <input checked="" type="radio"/> А) ионизирующее излучение; Б) уровень радиации; В) радиоактивное загрязнение; Г) радиоактивное заражение.	1	
8	Пострадавшему с сильным венозным кровотечением была наложена давящая повязка на рану. Спустя несколько минут повязка пропиталась кровью. Укажите дальнейшие действия: А) Удалить старую повязку, наложив на ее место новую; Б) Не трогая старую повязку, наложить кровоостанавливающий жгут; В) Наложить новую давящую повязку поверх старой с большим валиком на ране; <input checked="" type="radio"/> Г) Сняв старую повязку, плотно затампонировать рану марлевыми салфетками, после чего повторно наложить давящую повязку;	1	
9	Что из перечисленного не относится к боевым традициям Вооруженных сил РФ: А) военная присяга; Б) боевое Братство; <input checked="" type="radio"/> В) ротная песня; Г) милосердие к поверженному противнику;	1	
10	В какой статье уголовного кодекса РФ дано разъяснение ответственности граждан в случае умышленного заражения венерическими заболеваниями: <input checked="" type="radio"/> А) статья 121 УК РФ; Б) статья 129 УК РФ; В) статья 105 УК РФ; Г) статья 108 УК РФ.	1	
11	Какой буквой обозначается класс горючести металлов: А) А Б) В <input checked="" type="radio"/> В) Д Г) Е	1	
12	Укажите несуществующий род войск в составе современных сухопутных войск РФ: А) танковые; Б) мотострелковые; <input checked="" type="radio"/> В) армейская авиация; Г) ракетные;	1	
13	До какого возраста возможно использование детской защитной камеры (КЗД-6)? <input checked="" type="radio"/> А) до 1,5 лет;	1	

Муниципальный этап всероссийской олимпиады школьников по «Основам безопасности
жизнедеятельности»
Ханты-Мансийский автономный округ – Югра
2021-2022 учебный год
10-11 классы

	Б) до 3 лет; В) до 2 лет; Г) до 5 лет.		
14	В какой статье уголовного кодекса РФ дано разъяснение ответственности граждан в случае оставления человека в опасности и неоказания первой помощи: А) статья 127 УК РФ; Б) статья 94 УК РФ; В) статья 209 УК РФ; Г) статья 125 УК РФ.	1	
Определите несколько правильных ответов			
15	Право на отсрочку от призыва на военную службу имеют граждане: А) обучающиеся по очной форме обучения; Б) граждане, получающие второе высшее образование; В) обучающиеся в магистратуре; Г) граждане, достигшие 27-летнего возраста Д) граждане, достигшие 25-летнего возраста	2	
16	Управлять квадроциклом, согласно ПДД, можно: А) с 16 лет; Б) имея права категории А, так как квадроцикл приравнен к мотоциклу; В) с 18 лет; Г) имея удостоверение тракториста-машиниста, так как квадроцикл приравнен к самоходной машине; Д) имея водительское удостоверение любой категории.	2	
17	К запрещающим дорожным знакам относятся: А) таможня; Б) опасность; В) железнодорожный переезд без шлагбаума; Г) уступите дорогу.	2	
18	В состав танкового экипажа танка Т-80 входят: А) водитель; Б) заряжающий; В) наводчик; Г) стрелок-радист; Д) механик-водитель.	2	
19	По длительности проведения эвакуация может быть: А) временной; Б) постоянной; В) среднесрочной; Г) долгосрочной; Д) короткой;	2	

Муниципальный этап всероссийской олимпиады школьников по «Основам безопасности жизнедеятельности»

Ханты-Мансийский автономный округ – Югра

2021-2022 учебный год

10-11 классы

20	Назовите заболевания, которые могут передаваться половым путем: А) СПИД; Б) холера; В) гонорея; Г) дерматит; Д) пневмония;	2	
Итого:		26	

Матрица ответов на тестовые задания

Номер теста	1	2	3	4	5	6	7	8	9	10
Верный ответ	а+	б+	в+	а+	в+	б+	а+	г-	в+	а+

Номер теста	11	12	13	14	15	16	17	18	19	20
Верный ответ	в+	в+	а+	г+	ав2	аб2	аб2	ва2	аг1	ав2

Примечание. Максимальное количество баллов за тестовые задания 26.

245

Маршрутный лист участника муниципального этапа всероссийской олимпиады школьников по Основам Безопасности Жизнедеятельности

10-11 класс

Код участника ОБЖ-10-03

Задание 1. Нарушение дыхания у младенца

Женщина из соседнего купе в поезде сообщает Вам, что ее ребенку 10 месяцев во время приема пищи закашлялся, посинел, лежит без сознания. Окажите первую помощь.

Максимальная оценка 10 баллов.

№	Перечень ошибок и погрешностей	Штраф	Количество штрафов
1.	За каждый не выполненный пункт алгоритма	2 балл	
2.	За каждую ошибку при выполнении алгоритма	1 балл	
3.	Не вызвал Скорую медицинскую помощь (112)	5 баллов	
4.	Не обозначил «Контроль состояния до прибытия скорой помощи»	5 баллов	
		Итог баллов:	10
		Подпись судьи: _____	

Задание 2. Повязка при ранениях грудной клетки

Пострадавший при ДТП получил рану в области грудной клетки справа. Из раны при дыхании слышен звук выходящего воздуха. Окажите первую помощь.

Максимальная оценка 20 баллов.

№	Перечень ошибок и погрешностей	Штраф	Количество штрафов
1.	За каждый не выполненный пункт алгоритма	4 балл	
2.	За каждую ошибку при выполнении алгоритма	2 балл	
3.	Не вызвал Скорую медицинскую помощь (112)	10 баллов	
4.	Не обозначил «Контроль состояния до прибытия скорой»	10 баллов	
5.	Отказ от выполнения задания	20 баллов	
		Итог баллов:	10
		Подпись судьи: _____	

Задание 3. Клиническая смерть

Мужчина примерно 40 лет лежит на спине без движений после приступа болей в сердце. Окажите первую помощь.


Максимальная оценка 10 баллов.

№	Перечень ошибок и погрешностей	Штраф	Количество штрафов
1.	Безопасность	5 баллов	
2.	Не определил сознание	5 баллов	
3.	Не определил дыхание	5 баллов	
4.	Не вызвал Скорую медицинскую помощь (112)	10 баллов	
5.	Не проговорил «Продолжать базовую сердечно-легочную реанимацию до приезда скорой медицинской помощи»	2 балла	
6.	Не проговорил «Контроль пострадавшего каждые 2 минуты (дыхание, сознание)»	2 балла	
		Итог баллов:	10
		Подпись судьи: _____	

Задание 4. Артериальное кровотечение

Мужчина, вынимая оконную раму, разбил стекло. Большой осколок вонзился в ткани средней трети бедра. Мужчина сильно испугался, выдернул стекло, и сразу же началось сильное кровотечение пульсирующей струей. Окажите первую помощь.



Максимальная оценка 10 баллов

№	Перечень ошибок и погрешностей	Штраф	Количество штрафов
1.	Безопасность	10 баллов	
2.	За каждый не выполненный пункт алгоритма	2 балл	
3.	За каждую ошибку при выполнении алгоритма	1 балл	
4.	Не вызвал Скорую медицинскую помощь (112)	10 баллов	
5.	Не обозначил «Контроль состояния до прибытия скорой»	10 баллов	
		Итог баллов:	10
		Подпись судьи:	

Задание 5. Сборка массогабаритной модели автомата (АКМ, АК-74).

Условия: За линией старта на полу лежит разобранный автомат. Участник производит сборку лежащего на полу разобранного автомата в положении на колене или лежа.


Максимальная оценка —10 баллов.

№	Перечень ошибок и погрешностей	Штраф	Количество штрафов
1.	Не спущен курок после присоединения крышки ствольной коробки	5 балла	
2.	Нарушение последовательности	2 балла	
3.	Нарушение безопасности	5 баллов	
4.	Не поставлен на предохранитель после спуска	4 балла	
5.	Отказ от выполнения задания	10 баллов	
		Итог баллов:	
		Подпись судьи:	

Задание 6. Метание гранаты (теннисный мяч).

Условия: На полу находятся два теннисных мяча. На расстоянии не менее 15 метров установлена цель (гимнастический мат). Участник выполняет два броска по цели. Задача: прямым попаданием поразить цель.



Максимальная оценка —10 баллов.

№	Перечень ошибок и погрешностей	Штраф	Количество штрафов
1.	Заступ за контрольную линию - Положительный результат не засчитывается		
2.	За каждое непопадание в мишень	5 баллов	0
		Итог баллов:	10
		Подпись судьи:	

Задание 7. Стрельба из пневматической винтовки по откидным мишеням.

Условия: На поражение 5-ти откидных мишеней №8 участнику предоставляется 8 выстрелов (выдается 8 пульек).

Максимальная оценка - 10 баллов.


№	Перечень ошибок и погрешностей	Штраф	Количество штрафов
1.	за каждый непораженную мишень	2 балла	
		Итог баллов:	
		Подпись судьи:	

Задание 1(8). Узлы.

Вводная: Перед вами находится три карточки.


Задание: Выберите любую карточку и завяжите необходимый узел.

Максимальная оценка - 10 баллов.

№	Перечень ошибок и погрешностей	Штраф	Количество штрафов
1.	За неправильно завязанный узел	10 баллов	
2.	За отказ от выполнения задания	10 баллов	
		Итог баллов:	10
		Подпись судьи: 	

Задание 2(9). Задание: Выложите на столе, используя карандаши, два выбранные вами сигнала: (Международный код визуальных сигналов «земля-воздух»)


Максимальная оценка - 10 баллов.

№	Перечень ошибок и погрешностей	Штраф	Количество штрафов
1.	За каждый неправильный сигнал	5 баллов	
2.	Отказ от выполнения задания	10 баллов	
		Итог баллов:	10
		Подпись судьи: 	

Задание 3(10). Преодоление зоны химического заражения.

Условия: На исходном рубеже находятся общевоинской защитный костюм ОЗК (возможен Л-1) и гражданский противогаз (ГП-5 или ГП-7). На расстоянии шага от места нахождения СИЗ обозначена указателем «зона заражения», представляющая собой кривой коридор (типа лабиринта) длиной до 5 м. и шириной 1,5 м.


Максимальная оценка - 10 баллов.

№	Перечень ошибок и погрешностей	Штраф	Количество штрафов
1.	<i>Ошибки при надевании общевоинского защитного костюма ОЗК:</i>		
	за каждый не застёгнутый шпенец	1 балл	
	чулки не закреплены на поясном ремне	1 балл	
2.	<i>Ошибки при надевании гражданского противогаза:</i>		
	открыты глаза	2 балла	
	не задержано дыхание	2 балла	
	не сделан резкий выдох	2 балла	
	перекос шлем-маски противогаза	1 балл	
3.	За каждое нарушение порядка норматива	1 балл	1
4.	Отказ от выполнения задания	10 баллов	
		Итог баллов:	1
		Подпись судьи: 	

Задание 4(11). Снятие средств индивидуальной защиты.

Условия: Выйдя из зоны химического заражения, участник на исходной точке в определенной последовательности с учетом направления ветра снимает общевоинской защитный костюм ОЗК и гражданский противогаз. (Направление ветра указано стрелкой)


Максимальная оценка - 10 баллов.

№	Перечень ошибок и погрешностей	Штраф	Количество штрафов
1.	За каждое нарушение последовательности	1 балл	1+0
2.	За каждое касание зараженного защитного комплекта	2 балла	
3.	Снятие СИЗ произошло без учета ветра (за каждое).	2 балла	
		Итог баллов:	
		Подпись судьи: 	

Задание 5(12). Подъём груза.

Условия: к опоре на высоте 2,5-3 метра от пола при помощи верёвки 0 6 мм прикреплён карабин, через который пропущена основная верёвка 0 10-12 мм длиной 10 м, на полу находится гиря 24 кг с ручкой и груз (набивной мяч). Участнику необходимо обвязать груз основной верёвкой, поднять его на высоту не менее 1,5 метров и закрепить, привязав свободный конец верёвки к гире одним из перечисленных узлов: «штык^к», «стремя^к», «булинь^к», «карабинная удавка». Узлы, обозначенные символом «^к» вяжутся с контрольными узлами.

Максимальная оценка - 20 баллов.


№	Перечень ошибок и погрешностей	Штраф	Количество штрафов
1.	Груз не обвязан или не поднят, или не закреплён	20 баллов	
2.	Падение верёвки 0 10-12 мм на пол (потеря возможности поднять груз на высоту не менее 2,5 м)	20 баллов	
3.	Падение груза при подъёме с повторением задания	4 балла *	
4.	Груз поднят на высоту менее 2,5 метров и закреплён	11 баллов	
5.	Падение груза после закрепления (привязывания к гире)	8 баллов*	
6.	Использован узел, не перечисленный в условиях задания	7 баллов	
7.	Использован узел, кроме «карабинной удавки», перечисленный в условиях задания, но не завязан контрольный узел	3 баллов	
8.	Задание не выполнялось	20 баллов	
		Итого баллов:	20
		Подпись судьи:	

*За каждую ошибку.

Задание 6(13). Спасательные работы на воде.

Условия: *Напротив контрольной линии, обозначенной на полу, на расстоянии 10 метров расположена «зона утопающего» - гимнастический мат на полу. От контрольной линии в сторону «зоны утопающего» лежит основная (диам. 10 мм) верёвка длиной не менее 15 м без петли. Участник должен: закрепить конец веревки на своей руке штыковым узлом (учебник ОБЖ 6 класс изд. Дрофа); прямым попаданием попасть верёвкой в «зону утопающего», самостоятельно набирая верёвку (дается две попытки).*

Максимальная оценка - 10 баллов.

№	Перечень ошибок и погрешностей	Штраф	Количество штрафов
1.	Заступ за контрольную линию - положительный результат не засчитывается		
2.	Не закреплена верёвка на руке (за каждый)	4 балла	
3.	Не попадание петли верёвки в «зону утопающего» с 2-х попыток	10 баллов	
		Итого баллов:	10
		Подпись судьи:	

№ задания	Результат	№ задания	Результат	Итого
1		1(7)		
2		2(8)		
3		3(9)		
4		4(10)		
5		5(11)		
6		6(12)		
		7(13)		
Сумма 1		Сумма 2		