

ШИФР ФК-10-11-12

участника муниципального этапа
всероссийской олимпиады школьников по
физической культуре в 2020-2021 учебном
году

Внимание! Шифровать следует каждую
страницу Вашей письменной работы.

Ф. И. О. учащегося (в имен. пад.)

Останин Роман
Олегович

Дата

рождения 17.12.2003

Образовательное учреждение (полное
название) МАОУ СОШ № 9

Город, село

Метех

Район

Класс

11а

Ф. И. О. учителя (полностью)

Шамсутдинов Рамиль
Рифович

ВСЕРОССИЙСКАЯ ОЛИМПИАДА ШКОЛЬНИКОВ

ПО ФИЗИЧЕСКОЙ КУЛЬТУРЕ 2020–2021 уч. г.

МУНИЦИПАЛЬНЫЙ ЭТАП 9-11 классы

БЛАНК ОТВЕТОВ

1. Задания в закрытой форме, т. е. с предложенными вариантами ответов

№ вопроса	Варианты ответов			
	«а»	«б»	«в»	«г»
1	✓			
2			✓	
3				✓
4	✓			
5			✓	
6		✓		
7		✓		
8	✓			
9		✓		
10	✓			
11				✓
12	✓			
13	✓			
14			✓	
15		✓		
16				✓
17			✓	
18		✓		

15.

✓

166.

2. Задания в открытой форме

№ вопроса	Варианты ответов
19	Колобок
20	
21	Физическое развитие
22	гибкость
23	

3. Задания «на соответствие», связанные с сопоставлением двух представленных позиций

24. Установите соответствие между показателями функционирования организма и единицами их измерения.

1	2	3	4	5
ЖЕЛ	ЧСС	проба Штанге	проба Генчи	АД
А	Г	Б	Б	В

— + + + —

68,

25. Установите соответствие между техническими приемами и видами спорта

1	2	3	4	5
В	А	Г	Д	Б

+ + + + +

4. Задания процессуального или алгоритмического толка

105,

26. Укажите структуру обучения двигательному действию

Правильный ответ:

в + 25,

27. Установите правильную последовательность при описании физического упражнения.

Правильный ответ:

1	2	3
а	в	б

+ + +

25,

5. Задания в форме, предполагающей перечисление известных фактов, характеристик и тому подобного

28. Установите правильную последовательность слов в определении понятия общей выносливости.




Муниципальный этап Всероссийской олимпиады школьников по «Физической культуре»
Ханты-Мансийский автономный округ – Югра
2020-2021 учебный год

1	2	3	4	5	6
Г	б	е	б	г	а

6.Задания с иллюстрациями

25.

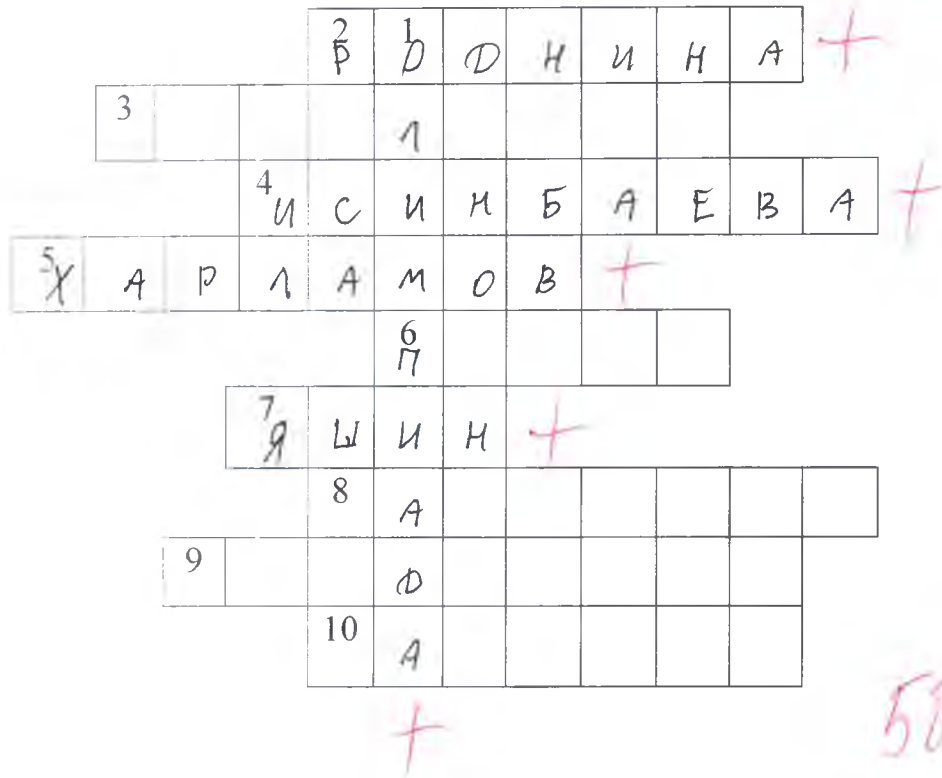
29. Что обозначают эти жесты судьи в баскетболе:

1  вращение кулаками	Пробетка	+
2  движения вверх-вниз	Двойное ведение	+
3  полувращение вперед	Пренос. (неправильное ведение мяча)	+

35.

7.Задача –кроссворд

Решите кроссворд



8.Задание - задача.

30. Решите задачу.

Тренировочная нагрузка в занятии составляет 65 % от максимального веса. При таком задании на тренировку Петя приседает со штангой весом 80 кг. Рассчитайте максимальный вес штанги для Пети в данном упражнении. Формулу, все расчёты и ответ запишите в бланк ответов (результат округлите до целых единиц).

Оценка (слагаемые и сумма) $\frac{80 \cdot 100}{65} = 123$

Подписи жюри _____

45.
505. *Петя*